

Transferência Interna e Facultativa 2018/1-2018/2

	Questões
Língua Portuguesa	01 a 09
História	10 a 17
Geografia	18 a 25

Administração	Gestão de Turismo (Tecnólogo)
Ciências Contábeis	História (Licenciatura)
Ciências Sociais (Bacharelado)	História (Bacharelado)
Ciências Sociais (Licenciatura)	Letras: Língua Portuguesa e Literaturas
Jornalismo	Logística (Tecnólogo)
Ciências Econômicas	Pedagogia (Licenciatura)
Direito	Relações Internacionais
Filosofia (Licenciatura)	Teatro
Geografia (Licenciatura)	Turismo Patrimonial e
Geografia (Bacharelado)	Socioambiental (Tecnólogo)
Gestão de Cooperativas (Tecnólogo)	



ATENÇÃO: transcreva no espaço apropriado do seu CARTÃO-RESPOSTA (gabarito), com sua caligrafia usual, considerando as letras maiúsculas e minúsculas, a frase a seguir:

Se você pode sonhar, você pode conseguir.

SÓ ABRA ESTE CADERNO QUANDO AUTORIZADO

ANTES DE COMEÇAR A FAZER AS PROVAS:


- Verifique se este caderno de provas contém 25 (vinte e cinco) questões, sequencialmente numeradas de 1 a 25.
- Caso haja algum problema, solicite imediatamente ao aplicador a substituição deste caderno.

AO RECEBER A FOLHA DE RESPOSTAS (GABARITO):

- Confira seus dados e, havendo erro, solicite ao aplicador a devida correção na Ata da Sala.
- Assine à CANETA (preta ou azul) no espaço indicado.

AO TRANSFERIR A MARCAÇÃO DAS ALTERNATIVAS PARA A FOLHA DE RESPOSTAS DEFINITIVA (GABARITO):

- Use somente caneta azul ou preta e aplique traços firmes dentro da área reservada à letra correspondente a cada resposta, conforme modelo:



- Sua resposta NÃO será computada se houver marcação de mais de uma alternativa.
- A folha de respostas não deve ser dobrada, amassada ou rasurada.

ATENÇÃO:

Ao término da prova, você poderá levar consigo o Gabarito Rascunho.

AO TERMINAR AS PROVAS, você deverá chamar a atenção do aplicador levantando o braço. Ele irá até você para recolher sua FOLHA DE RESPOSTAS e este CADERNO DE PROVAS.

Os TRÊS ÚLTIMOS CANDIDATOS de cada sala só poderão sair JUNTOS, após assinarem a ata de sala.

Recolha seus objetos, deixe a sala e, em seguida, o prédio. A partir do momento em que sair da sala e até sair do prédio, continuam válidas as proibições sobre o uso de aparelhos eletrônicos e celulares, bem como não lhe será mais permitido o uso dos sanitários.

Terá suas provas anuladas e será automaticamente eliminado do processo seletivo, o candidato que durante a sua realização for surpreendido portando (mesmo que desligado) quaisquer aparelhos eletrônicos, tais como bip, telefone celular, relógio de qualquer espécie, walkman, agenda eletrônica, notebook, palmtop, ipod, ipad, tablet, pen drive, receptor, gravador, máquina de calcular, máquina fotográfica, chaves integradas com dispositivos eletrônicos, controle de alarme de carro e moto, controle de portão eletrônico etc., bem como quaisquer acessórios de chapelaria, tais como chapéu, boné, gorro etc., e ainda lápis, lapiseira/grafite, borracha, caneta em material não-transparente, óculos de sol (exceto com comprovação de prescrição médica), qualquer tipo de carteira ou bolsa e armas.

- Duração total destas provas, incluindo o preenchimento da FOLHA DE RESPOSTAS (GABARITO):

3h(três horas)

Nome:

R.G.:

PROVA DE LÍNGUA PORTUGUESA

Leia o texto I a seguir e responda as questões de 01 a 04.

Texto I

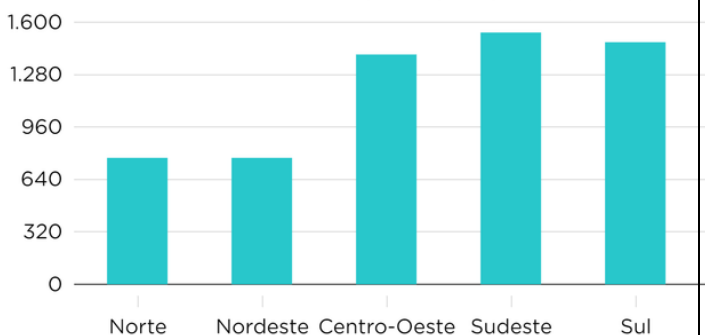
Como está a desigualdade de renda no Brasil, segundo o IBGE

A pesquisa identificou que o rendimento médio real domiciliar per capita foi de R\$ 1.242. A exemplo do que ocorre com indicadores de desigualdade, Norte e Nordeste **ainda** apresentam rendimento inferior ao verificado nas demais regiões.

Rendimentos no país

Segundo o IBGE, a informalidade ajuda a explicar a diferença entre as regiões. Explica também o fato de estar no Norte e no Nordeste o maior número de famílias que dependem de programas de transferência de renda, como o Bolsa Família. No Nordeste, por exemplo, 29,3% dos 18,3 milhões de domicílios recebem recursos repassados pelo programa federal. **Segundo** o IBGE, o Nordeste é a região em que se verifica o menor percentual de rendimentos oriundos do trabalho e, por outro lado, o percentual mais alto de brasileiros com rendimentos vindos de “outras fontes”, o que inclui os programas de transferência de renda. **Essa** característica dá a dimensão do peso dos recursos assistenciais na renda familiar. “Trata-se de uma região com mais informalidade no trabalho, o que contribui para taxas de desocupação mais elevadas”.

Renda média mensal domiciliar per capita (em R\$)



Fonte: Pnad Continua 2016 | IBGE

Concentração e desigualdade

Em 2016, o ganho médio de uma pessoa **que** integra o grupo de 1% mais rico da população era equivalente a 36 vezes do ganho de uma pessoa que integra o grupo da metade mais pobre do país. 889 mil é o número de pessoas que integram o grupo de 1% mais rico, que em 2016 teve rendimento médio de R\$ 27 mil /mês.

44,4 milhões é o número de pessoas que integram o grupo de 50% com menor renda **e** que em 2016 ganhou R\$ 747 em média por mês, inferior ao salário mínimo.

Fonte: VENTURINI, Lilian. In: NEXO JORNAL LTDA. 30 nov. 2017 (atualizado 15/Jan 15h07). Disponível em: < <https://www.nexojornal.com.br/expresso/2017/11/30/Como-est%C3%A1-a-desigualdade-de-renda-no-Brasil-segundo-o-IBGE>>. Acesso em: 14 abril 2018 (fragmento adaptado).

QUESTÃO 01

De acordo com a interpretação do texto, assinale a alternativa **INCORRETA**.

- (A) Com relação à concentração de renda, os dados de 2016 indicam que 889 mil é o número de pessoas que integram o grupo de 1% mais rico, que pode demonstrar o quanto o Brasil é desigual.

- (B) Com relação aos rendimentos no país, um dos aspectos que explica a diferença na renda das diferentes regiões é a informalidade.
- (C) Os dados demonstram que, com as políticas públicas, o número de pessoas que integram o grupo de 50% com menor renda, cerca de 44,4 milhões, aumentou seus rendimentos, ganhando por mês salário superior ao mínimo.
- (D) Os dados demonstram que o ganho médio de uma pessoa que integra o grupo de 1% mais rico do país era proporcional a 36 vezes do ganho de uma pessoa que faz parte da metade mais pobre do Brasil.
- (E) Os dados demonstram que os rendimentos procedentes de outras fontes, como o Bolsa Família, auxiliam na renda familiar principalmente da região Nordeste.

QUESTÃO 02

De acordo com a leitura do gráfico no texto I, assinale a alternativa **CORRETA**.

- (A) As regiões Norte e Nordeste possuem uma renda mensal domiciliar *per capita* fixa de R\$ 640,00, enquanto as demais regiões alcançam o teto de R\$ 1.280,00.
- (B) As regiões Centro-Oeste e Nordeste equiparam-se à região Sul, cuja renda oscila entre R\$ 1.280,00 e R\$ 1.600,00.
- (C) A região Nordeste é uma das que possui menores percentuais de brasileiros com rendimentos vindos de “outras fontes”, o que inclui os programas de transferência de renda.
- (D) A região Nordeste é a que mais concentra a informalidade. Segundo os dados, ela apresenta o menor percentual de rendimentos oriundos do trabalho.
- (E) As regiões Sul e Sudeste concentram as maiores taxas de informalidade no trabalho.

QUESTÃO 03

Com relação aos elementos de coesão do texto, assinale a alternativa **CORRETA**.

- (A) O elemento “Essa”, negrito no segundo parágrafo, corresponde a um elemento coesivo anafórico que retoma a ideia anterior do enunciado.
- (B) O elemento “ainda”, negrito no primeiro parágrafo, serve para concluir as ideias anteriores.
- (C) O elemento “que”, negrito no terceiro parágrafo, corresponde a um item coesivo anafórico que antecipa a ideia de “era equivalente a 36 vezes do ganho de uma pessoa que integra o grupo da metade mais pobre do país”.
- (D) O elemento “e”, negrito no quarto parágrafo, é usado para enfatizar ou destacar a ideia anterior.
- (E) O elemento “Segundo”, negrito no segundo parágrafo, corresponde a um elemento de enumeração, que pode ser substituído por: “em segundo lugar”.

QUESTÃO 04

A função da linguagem, predominantemente, usada no texto é a:

- (A) poética, pois a autora do texto utiliza linguagem emotiva para explicar as suas ideias.
- (B) denotativa, pois a autora expõe e discute as informações com objetividade e clareza.
- (C) emotiva, pois a autora do texto procura sensibilizar o leitor com seus argumentos.
- (D) conotativa, pois o objetivo da autora é o de influenciar e de persuadir o leitor por meio do uso de vocativos.
- (E) fática, pois o objetivo da autora é emocionar o leitor com os dados.

Leia o texto II a seguir para responder as questões de **05 a 09**.

Texto II.

Maioria dos artesãos brasileiros atua na informalidade, aponta pesquisa

O artesanato brasileiro é um dos mais ricos do mundo e o sustento ou complemento de renda para milhares de famílias. Mesmo assim, ainda é um trabalho informal para a maioria dos artesãos. Essa é uma das conclusões de um estudo inédito realizado pelo Clube de Artesanato, maior comunidade on-line de artistas e artesãos do País, durante os meses de maio e junho. Das 3.649 pessoas que participaram do levantamento, apenas 17,7% estão formalizadas como microempreendedor individual (MEI), 45,8% disseram que não têm interesse em se registrar e 21,5% que não saem da informalidade porque não têm incentivos do governo e nem como arcar com os custos altos de uma empresa. [...]

De acordo com a pesquisa, em 63% dos domicílios, há apenas uma pessoa com trabalho fixo e, em momento de crise, as artes manuais e o artesanato ajudam 56% dos entrevistados a aumentar a renda. Além disso, 31% sustentam entre duas e quatro pessoas com os ganhos obtidos a partir da venda das peças. “O brasileiro é muito criativo e o artesanato é ótima alternativa para quem quer ganhar um dinheiro extra. De acordo com o nosso levantamento, 70% das pessoas fazem artesanato e vendem entre amigos e familiares e apenas 8% têm uma pequena loja, o que comprova, mais uma vez, a informalidade neste ramo de negócio”, ressalta Ferreira.

A pesquisa realizada pelo Clube de Artesanato revela, ainda, que os artistas e artesãos brasileiros enfrentam dificuldades para atrair compradores (48%), divulgar seus trabalhos (42%) e precificá-los (também 42%). E que as datas sazonais como Natal, Dia das Mães e festas juninas colaboram para o aumento nas vendas.

3.649 pessoas foram ouvidas pelo Clube de Artesanato, 62% estão na região Sudeste; 17% no Sul, 12% no Nordeste; 6% no Centro-Oeste e apenas 3% no Norte. 97% são do sexo feminino; 38% têm entre 31 e 45 anos; 31% entre 46 e 55 anos; 25% acima de 56 anos; 4% entre 26 e 30 anos e apenas 2% entre 15 e 25 anos.

Fonte: In: Legislação. Diário do Comércio, 12 jul. 2017. Disponível em: <http://diariodocomercio.com.br/noticia.php?tit=maioria_dos_artesaos_brasileiros_atua_na_informalidade_aponta_pesquisa&id=182917>. Acesso em: 20 abril 2018 (fragmento adaptado).

QUESTÃO 05

Sobre a interpretação do texto, assinale a alternativa **INCORRETA**.

- (A) O texto relata que o artesanato, em momentos de crise, auxilia na renda de 56% dos entrevistados.
- (B) O texto descreve que os artistas e os artesãos brasileiros enfrentam dificuldades para atrair compradores para suas peças.
- (C) O texto menciona a criatividade do brasileiro e o fato de o artesanato ser uma alternativa para quem quer obter renda extra.
- (D) O texto registra que do total dos entrevistados pelo Clube de Artesanato, a maioria é do sexo feminino e estão na região Sudeste.
- (E) O texto retrata que as atividades, oriundas da produção do artesanato, concentram-se mais na população jovem, entre 15 e 25 anos.

QUESTÃO 06

O artesanato é considerado trabalho informal para a maioria dos artesãos porque:

- (A) é muito difícil vender para amigos e para os familiares dos artesãos.
- (B) de acordo com a pesquisa do Clube do artesanato, 45,8% dos entrevistados não têm interesse em se registrar.
- (C) dos 3.649 entrevistados, 17,7% alegam que, embora haja incentivos do governo para a formalização, os custos para se abrir uma empresa (MEI) ainda são muito altos.
- (D) de acordo com a pesquisa, 70% dos artesãos já vendem as peças em pequenas lojas.
- (E) o artesanato auxilia no aumento da renda, sendo que 56% dos entrevistados sustentam entre duas e quatro pessoas com os ganhos.

QUESTÃO 07

No excerto: “O brasileiro é muito criativo e o artesanato é ótima alternativa para quem quer ganhar um dinheiro extra. De acordo com o nosso levantamento, 70% das pessoas fazem artesanato e vendem entre amigos e familiares e apenas 8% têm uma pequena loja, o que comprova, mais uma vez, a informalidade neste ramo de negócio”, o autor emprega as aspas com o objetivo de:

- (A) indicar citações diretas, com a transcrição integral de um argumento de autoridade, no caso, de um entrevistado.
- (B) demarcar o uso de estrangeirismos, ou seja, palavras procedentes de outras línguas.
- (C) enfatizar a utilização de gírias e de palavras populares que fogem ao uso convencional.
- (D) denotar a ironia presente na fala do entrevistado e de contrastar o trecho com os demais elementos textuais.
- (E) destacar sua própria opinião a respeito do assunto tratado no texto.

QUESTÃO 08

Sobre os dados revelados pelo Clube do Artesanato e as complicações encontradas pelos artistas e pelos artesãos, analise as afirmativas a seguir.

- I. Um dos problemas encontrados pelos artistas e pelos artesãos é atrair compradores para as peças.
- II. A divulgação dos trabalhos e a atribuição de preços aos itens apresentam-se como dificuldades aos artistas e aos artesãos.
- III. Meses e datas comemorativas impulsionam as vendas.

Assinale a alternativa **CORRETA**.

- (A) Apenas a afirmativa I está correta.
- (B) Apenas a afirmativa II está correta.
- (C) Apenas as afirmativas I e II estão corretas.
- (D) Apenas as afirmativas II e III estão corretas.
- (E) Todas as afirmativas estão corretas.

QUESTÃO 09

Sobre o fragmento: “3.649 pessoas foram ouvidas pelo Clube de Artesanato [...]”, presente no último parágrafo, analise as afirmativas.

- I. Na oração, o sujeito é “3.649 pessoas”.
- II. A oração está na voz passiva, por isso, o complemento verbal é “3.649 pessoas”.
- III. O “Clube do Artesanato” é o sujeito da oração que está na voz passiva.

Assinale a alternativa **CORRETA**.

- (A) Apenas a afirmativa I está correta.
- (B) Apenas a afirmativa II está correta.
- (C) Apenas as afirmativas I e II estão corretas.
- (D) Apenas as afirmativas II e III estão corretas.
- (E) Todas as afirmativas estão corretas.

PROVA DE HISTÓRIA

QUESTÃO 10

As divisões sociais na Índia Antiga, que vigoraram institucionalmente até o século XX, estavam fundamentadas em questões religiosas. É **CORRETO** afirmar que tais divisões receberam, da historiografia sobre a Índia, os nomes de:

- (A) astecas, maias, eupátridas, vedas.
- (B) corporações, maias, olmecas.
- (C) astecas, sátrapas, olmecas.
- (D) brâmanes, xátrias, vaixás, sudras e párias.
- (E) incas, medos, brâmanes, sudras e párias.

QUESTÃO 11

A historiografia sobre o processo de decadência do Império Romano indica que a expressão “povos bárbaros” foi concebida pelos romanos para tratar os povos que não tinham se romanizado e que não falavam latim ou grego. Entre os bárbaros europeus encontravam-se os:

- (A) francos, visigodos, saxões e ostrogodos.
- (B) sumérios, acádios, amoritas, caldeus.
- (C) fenícios, persas, egípcios, caldeus.
- (D) kushitas, xiitas, islamitas, sumérios.
- (E) astecas, maias, incas, amoritas.

QUESTÃO 12

Em 1922, organizaram a marcha dos “camisas negras”, exigindo o poder, com seu líder obtendo concessões do Rei Vitor Emanuel III, e passando a organizar o gabinete do governo. Em 1924, ganharam a maioria parlamentar. Em 1929, ganharam o apoio do clero. Tais fatos referem-se a:

- (A) Hitler e ao nazismo alemão.
- (B) Stálin e ao comunismo soviético.
- (C) Churchill e ao liberalismo inglês.
- (D) Lenin e ao socialismo russo.
- (E) Mussolini e ao fascismo italiano.

QUESTÃO 13

Em julho de 1936, depois de um breve governo popular de Manoel Azaña, que implantou a reforma agrária e aumentou os salários, iniciou-se uma rebelião militar a partir do Marrocos. O país então se envolveu numa guerra civil que durou até 1939 causando um milhão de mortes. Os combates ganharam significado histórico de uma luta entre o fascismo e a democracia. O lado vencedor ficou no poder até 1975. Esses dados históricos estão relacionados à/ao:

- (A) Ditadura austríaca, instaurada por Engelbert Dollfuss, na década de 1930.
- (B) Guerra Civil Espanhola, que levou o general Franco ao poder.
- (C) Ditadura de Salazar, em Portugal.
- (D) Fascismo italiano de Benito Mussolini.
- (E) Socialismo russo de Joseph Stálin.

QUESTÃO 14

Em 14 de novembro de 1889, militares rebeldes, liderados pelo Marechal Deodoro da Fonseca, depuseram o Imperador, posteriormente enviado ao exílio. Na tarde do mesmo dia, José do Patrocínio proclamava a República. Dada a pouca participação popular nesse acontecimento, a historiografia sobre o início da República brasileira consagrou uma expressão derivada de uma frase de Aristides Lobo. Essa expressão indicava que:

- (A) o povo assistira a tudo bestializado.
- (B) o povo ficou encantado.
- (C) o povo participou massivamente do processo.
- (D) a Proclamação não teria acontecido sem pressão popular.
- (E) os militares procuraram não intervir no processo da Proclamação da República.

QUESTÃO 15

As mulheres atuam no espaço público brasileiro desde o Período Colonial, mas foi no século XX que elas intensificaram a participação na esfera pública brasileira, com a criação de diversas instituições que primavam pelo empoderamento feminino. É **CORRETO** afirmar que a Federação das Mulheres do Brasil foi criada no(a):

- (A) segunda metade do século XIX, sob orientação positivista.
- (B) fim da primeira década do século XX, sob orientação fascista.
- (C) segunda metade do século XX, sob orientação liberal.
- (D) fim da década de 1940, sob orientação de esquerda
- (E) fim da década de 1950, sob orientação neoliberal.

QUESTÃO 16

As Jornadas de Junho, de 2013, foram manifestações cidadãs que ocorreram no sistema político brasileiro atual, posteriormente assumidas como movimentos políticos e ideológicos que atuaram no impeachment de Dilma Rousseff, em 2016. Na organização inicial dessas jornadas, estava o:

- (A) Movimento do Sem Terra.
- (B) Movimento Passe Livre.
- (C) Movimento pela Anistia.
- (D) Movimento dos Sem teto de São Paulo.
- (E) Movimento Brasil Livre.

QUESTÃO 17

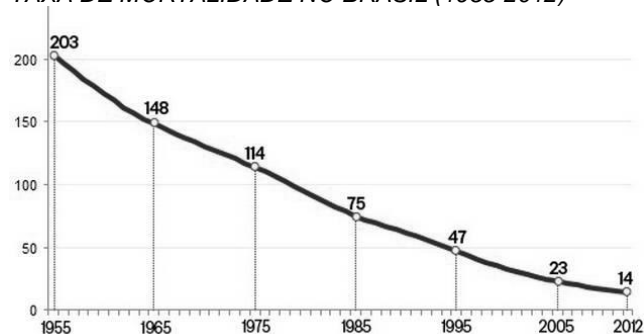
No estado do Tocantins acontecem festejos que lembram e preservam os costumes e tradições indígenas, portuguesas, africanas e afrodescendentes. Em municípios como Monte do Carmo e Natividade, organizam-se festividades com temperos místicos aliados às culturas populares das comunidades locais. As influências religiosas que caracterizam essas festas como práticas de devoção encontram-se no:

- (A) Pentecostalismo protestante.
- (B) Espiritismo kardecista.
- (C) Catolicismo popular.
- (D) Protestantismo histórico.
- (E) Catolicismo ultramontano.

PROVA DE GEOGRAFIA

QUESTÃO 18

TAXA DE MORTALIDADE NO BRASIL (1955-2012)



Fonte: Dados da ONU disponíveis no Relatório da UNICEF sobre Mortalidade Infantil. Disponível em <https://www.terra.com.br/noticias/brasil/queda-de-73-em-mortalidade-infantil-no-brasil-e-destaque-de-relatorio-da-unicef,1b22dc840f0da310VgnCLD200000bbccceb0aRCRD.html>. Acesso em 13 abril 2018.

Segundo o relatório da UNICEF sobre a mortalidade infantil, a taxa brasileira teve uma redução maior que a média global. Considerando o gráfico sobre a taxa de mortalidade infantil no Brasil é **CORRETO** afirmar que:

- (A) A redução da natalidade promoveu uma explosão demográfica no Brasil com aumento das taxas de crescimento vegetativo superiores a 55%.
- (B) O declínio da taxa de natalidade mostra claramente o envelhecimento da população que vem alterando as características no Brasil.
- (C) De acordo com o gráfico é possível aferir que houve um estreitamento da base e um alargamento do topo da atual pirâmide etária brasileira.
- (D) Segundo o gráfico apresentado pelo relatório da UNICEF, a mortalidade infantil no Brasil caiu 71% entre 1995 e 2012.
- (E) O aumento na produção e a equidade na distribuição de alimentos no Brasil interferiram nas taxas de natalidades e mortalidade.

QUESTÃO 19

O setor quaternário ou terciário superior da economia aponta uma tendência de aceleração de fluxos de pessoas, mercadorias, serviços e capitais e, portanto, de mais informações pelo espaço geográfico. Considerando as novas tendências dos setores da economia é **CORRETO** afirmar que o quaternário ou terciário superior caracteriza-se

- (A) por oferecer as atividades representadas pela agricultura e beneficiamento das matérias-primas de extrativismo vegetal.
- (B) enquanto um setor que só existe na economia brasileira e atende exclusivamente à cadeia produtiva de alimentos, em especial do trigo, arroz e feijão.
- (C) pela oferta de concursos para atender aos equipamentos públicos de saúde, educação, moradia e segurança. O aumento das vagas de empregos públicos fomenta o setor.
- (D) pelo arranjo realizado entre os setores primários e secundários dos países subdesenvolvidos e sem preparo tecnológico para avançar as indústrias de base.
- (E) como um novo setor que produz tecnologia e conhecimento e por tanto necessita de mão de obra qualificada tecnologicamente e investimentos em pesquisa e inovação.

QUESTÃO 20

Os domínios morfoclimáticos são resultantes da atuação de domínios climatobotânicos, geopedológicos, fitogeográficos e hidrológicos. Os estudos de Aziz Ab'Saber levaram-no a identificar no Brasil seis distintas paisagens, que receberam o nome de domínios morfoclimáticos. São eles: Amazônico, Mar de Morro, Cerrado, Caatinga, Araucária e Pradaria. É **CORRETO** afirmar que o domínio do **Cerrado** caracteriza-se pela presença de:

- (A) terras baixas florestadas equatoriais.
- (B) depressões semiáridas entre chapadas.
- (C) chapadões interiores com florestas-galerias.
- (D) planaltos subtropicais com floresta aciculifoliada.
- (E) campos baixos com relevo de coxilhas subtropicais.

QUESTÃO 21

O espaço Schengen representa um território onde ocorre a livre circulação de pessoas. O Acordo de Schengen é uma convenção entre países sobre uma política de abertura das fronteiras e livre circulação de pessoas entre os países signatários. É **CORRETO** afirmar que são signatários os países:

- (A) Alemanha, Áustria, Bélgica e Dinamarca.
- (B) Brasil, Rússia, China, Índia e África do Sul.
- (C) Líbia, Síria, Jordânia, Arábia Saudita, Kuwait e Irã.
- (D) Honduras, Panamá, Nicarágua, Costa Rica e Guatemala.
- (E) Japão, Coreia do Norte, Coreia do Sul, Malásia e Filipina.

QUESTÃO 22

Em relação à natureza como fonte de recursos, analise as afirmativas a seguir:

- I. o progresso e o desenvolvimento tecnológico criaram condições para a reprodução de todas as matérias-primas necessárias à vida humana, eliminando os riscos de sua extinção do Planeta Terra.
- II. as raízes do intenso processo de degradação dos recursos naturais e do agravamento dos problemas ambientais estão associadas diretamente à lógica perversa de expansão da sociedade industrial e do consumismo exacerbado.
- III. a destruição das florestas no mundo se mostra acentuada, sobretudo, nos países mais densamente povoados, onde há forte pressão para a derrubada da vegetação nativa e o aumento das áreas de plantio.
- IV. as atuais políticas, que visam a progressiva substituição do biodiesel pela gasolina derivada do petróleo na frota de automóveis nas próximas duas décadas, têm como objetivo estimular a produção de combustíveis de fontes não-renováveis.

Assinale a alternativa **CORRETA**.

- (A) Apenas as afirmativas I, II e III estão corretas.
- (B) Apenas as afirmativas II e III estão corretas.
- (C) Apenas as afirmativas I e IV estão corretas.
- (D) Apenas as afirmativas I e II estão corretas.
- (E) Apenas as afirmativas II, III e IV estão corretas.

QUESTÃO 23

Leio o trecho do texto a seguir.

“As ilhas paradisíacas do Pacífico Sul estão sumindo. Em poucos anos, algumas delas devem ficar desertas: cansados das frequentes inundações, os moradores estão indo embora”.

Fonte: VITOLA, Giovana. Países em extinção. Superinteressante, São Paulo jan. 2007. Disponível em www.super.abril.com.br/ciencia/paises-extincao-446796.shtml. Acesso em 19 mar 2018.

O texto acima chama a atenção para a atuação do seguinte fenômeno climático:

- (A) chuva ácida, que está intensificando o fluxo migratório.
- (B) inversão térmica, que está produzindo o esfriamento das regiões extremas do Planeta.
- (C) frente fria, que está alterando o regime atmosférico dos ventos.
- (D) ilhas de Calor, que estão impedindo a formação de barreiras naturais.
- (E) aquecimento global, que está alterando o nível médio dos mares.

QUESTÃO 24

Em relação ao processo de urbanização, analise as afirmativas a seguir.

- I. A ascensão do modelo capitalista, a partir do final do século XVIII, contribuiu diretamente para a expansão das atividades ligadas ao espaço urbano no mundo.
- II. Em alguns países, como Japão e Estados Unidos, as cidades atingiram níveis de crescimento populacional tão elevados que a proximidade entre metrópoles levou ao surgimento do fenômeno das megalópoles.
- III. Apesar do crescimento das cidades, grande parte da população mundial ainda reside na área rural, onde estão as principais forças produtivas dos países.
- IV. No Brasil, o crescimento e precarização dos espaços periféricos das maiores cidades é resultado da combinação histórica entre políticas públicas ineficientes e intensificação da segregação socioespacial.

Assinale a alternativa **CORRETA**.

- (A) Apenas as afirmativas I, II e IV estão corretas.
- (B) Apenas as afirmativas III e IV estão corretas.
- (C) Apenas as afirmativas I e II estão corretas.
- (D) Apenas as afirmativas II e III estão corretas.
- (E) Apenas as afirmativas I, III e IV estão corretas.

QUESTÃO 25

Em relação à atuação conjunta de forças militares norte-americanas, britânicas e francesas, que resultou em um bombardeio realizado na noite do último dia 13 de abril de 2018, assinale a alternativa **CORRETA**.

- (A) Significa uma retaliação às recentes manobras de submarinos norte-coreanos no Mar do Japão.
- (B) Constitui o declínio das atuais superpotências e a emergência de uma nova ordem econômica mundial.
- (C) Trata-se de uma resposta a um suposto ataque com armas químicas ocorrido no contexto do conflito em curso na Síria.
- (D) Representa a confirmação da supremacia dos países árabes em relação às exportações mundiais de petróleo.
- (E) Marca a ruptura formal dos blocos internacionais de poder e o retorno às relações individuais entre os países.