

## LINGUA PORTUGUESA – NÍVEL INTERMEDIÁRIO

Leia o texto abaixo para responder à questão 01:

Deixei cair a luneta, e quase me ajoelhei para adorar a angélica moça. Creio nos amores **que** de repente conquistam e escravizam corações. Creio nas paixões **que** de improviso se acendem. Creio nos amores e nas paixões **que** os romances nos descrevem inspirados em um momento pelos encantos de jovens famosos e de prestígio deslumbrante.

Joaquim Manuel de Macedo, *A Luneta Mágica*.

### QUESTÃO 01

Pela leitura do texto, podemos afirmar que a palavra **que**, em destaque acima, exerce a função de:

- (A) pronome apassivador
- (B) pronome interrogativo
- (C) pronome relativo
- (D) pronome demonstrativo

### QUESTÃO 02

Indique a alternativa em que há o uso CORRETO dos sinônimos:

- (A) eminente = superior, sublime, excelente.
- (B) emergência = ocorrência, saliência, aparecimento.
- (C) eminência = altura, pendente, incidente.
- (D) iminente = sobranceiro, elevação, ameaçador.

### QUESTÃO 03

Indique a alternativa em que o uso da palavra iminente está INCORRETO:

- (A) É iminente a crise financeira no Brasil!
- (B) Tivemos que sair do local, o prédio estava pegando fogo e o perigo era iminente.
- (C) O risco de pegar a gripe suína no México é iminente!
- (D) Ele chegou ao mais iminente posto na academia

### QUESTÃO 04

“Vamos sair da crise, **porém** não sairemos mais competitivos” (Marcelo Rehder, *Jornal O Estado de S. Paulo*, 03/08/09).

Em relação ao texto acima, Indique a alternativa em que todas as conjunções podem substituir a conjunção **porém**, encontrada no texto acima, sem alterar o sentido:

- (A) mas, contudo, todavia.
- (B) todavia, mas, contudo.
- (C) mas, portanto, todavia.
- (D) contudo, portanto, mas.

### QUESTÃO 05

Indique a alternativa em que o uso do plural dos substantivos está CORRETO:

- (A) sótãos, acórdãos, catalões, aviãos, alemães, eremitões.
- (B) balões, frações, tabeliães, capelães, órfãos, eremitães.
- (C) vulcães, capelãos, eremitãos, tabeliões, cortesões, cidadãos.
- (D) catalões, balões, frações, eremitões, tabeliães, capelães.

### QUESTÃO 06

Indique a alternativa em que uso do superlativo relativo está CORRETO:

- (A) Aquela planta é a pior cuidada do jardim.
- (B) Esse bairro é o mais bem servido da cidade.
- (C) Esse bairro é o melhor situado da cidade.
- (D) Estes idosos são os piores assistidos da região.

### QUESTÃO 07

Assinale a alternativa em que a concordância verbal está INCORRETA:

- (A) Se houveram tantos mortos, possivelmente haverá muito poucos sobreviventes.
- (B) Se houve tantos mortos, provavelmente haverá poucos sobreviventes.
- (C) Muitos haverão de se lamentar e chorar a perda dos seus pelo resto da vida.
- (D) Há lembranças de momentos inesquecíveis, apesar de tudo.

**QUESTÃO 08**

Alteramos intencionalmente a pontuação do texto abaixo, que é excerto da obra *As Pupilas do Senhor Reitor*, de Júlio Diniz.

Indique a alternativa em que o uso da pontuação está correto:

- (A) - *Fraca! Fraca! - dizia entre soluços – que não tive forças para me sustentar até o fim! Vá, vá, acabem de correr por uma vez essas lágrimas; e que sejam as últimas; que ninguém as veja mais nos olhos. A causa . . . a causa . . . Oh! Essa ninguém há de adivinhar.*
- (B) - *Fraca. Fraca - dizia entre soluços – que não tive forças para me sustentar, até o fim! Vá, vá, acabem de correr por uma vez essas lágrimas, e que sejam as últimas; que ninguém as veja mais nos olhos. A causa . . . a causa . . . Oh! Essa ninguém há de adivinhar.*
- (C) - *Fraca! Fraca! - dizia entre soluços – que não tive forças para me sustentar, até o fim! Vá, vá, acabem de correr por uma vez essas lágrimas, e que, sejam as últimas que ninguém as veja mais nos olhos. A causa, a causa. Oh Essa ninguém há de adivinhar.*
- (D) - *Fraca! Fraca! - dizia entre soluços que não tive forças para me sustentar até o fim! Vá, vá, acabem de correr por uma vez essas lágrimas; e que sejam as últimas que ninguém as veja mais nos olhos. A causa . . . a causa . . . Oh! Essa ninguém a há de adivinhar.*

**QUESTÃO 09**

Preencha os espaços do texto com as palavras de uma das alternativas abaixo:

\_\_\_\_\_ muitos anos que Daniel observava um sistema de vida, que de todo \_\_\_\_\_ trazia desfeito \_\_\_\_\_ hábitos campestres e indiferente \_\_\_\_\_ coisas e pessoas da localidade que o vira nascer.

- (A) haviam, o, os, às.  
 (B) havia, lhe, os, as.  
 (C) havia, o, dos, às.  
 (D) haviam, o, os, às.

**QUESTÃO 10**

Assinale a alternativa em que todas as expressões são de regência nominal.

- (A) amor ao próximo, necessidade de falar, obrigação de se sustentar, desejo de comer melancia, dedicação aos estudos.  
 (B) obedecer às leis, amar a Deus, dedicação aos estudos, sentir-se a vontade, desejo de comer melancia.  
 (C) necessidade de falar, obrigação de se sustentar, obedecer às leis, dar presente a alguém, dedicação aos estudos.  
 (D) amor ao próximo, necessidade de falar, obrigação de se sustentar, desejo de comer melancia, morar em Paris.

Leia o texto abaixo para responder às questões de 11 a 15.

“O Holocausto foi executado na sociedade moderna e racional, em nosso alto estágio de civilização e no auge do desenvolvimento cultural humano. Por isso, é um problema da nossa civilização e da nossa sociedade”, diz o sociólogo polonês Zygmunt Baumann, autor de *Modernidade e Holocausto*. Por isso é tão difícil falar abertamente sobre o assunto. O nazismo diz respeito a nós. Auschwitz é tão ocidental e moderno quanto a calça jeans. O Holocausto foi feito ao modo moderno: racional, planejado, “cientificamente” fundamentado, especializado, burocrático, eficiente. [...]

Quando os nazistas perceberam que tiros não seriam suficientes para eliminar os 11 milhões de judeus da Europa, recorreram a outra solução moderna, as câmaras de gás, inspiradas nas mais avançadas tecnologias de dedetização. Auschwitz era uma fábrica de matar – tinha capacidade para queimar 4.756 corpos por dia em 5 crematórios. Uma grande “inovação”, se comparada aos métodos usados pelos turcos contra os armênios em 1915: fuzilamento, golpes de clavas e baionetas.

A tecnologia moderna libertou o homem de séculos de domínio da natureza. Graças a ela, o homem pela primeira vez acreditou que não era apenas uma “criatura de Deus”, à mercê de Seus desígnios, mas um sujeito capaz de moldar o mundo. Foi justamente o que os nazistas quiseram fazer: mudar a Terra, construir sua utopia. E pretendiam fazer isso do jeito moderno: sem questionamentos morais, em nome do “progresso”.

Eduardo Skklarz. *Nazismo: 4ª. Idéia: a fria modernidade*. Revista Super Interessante, n.215, julho de 2005. p. 43.

**QUESTÃO 11**

A partir da interpretação do texto acima, podemos afirmar que:

- I. trata-se de uma apologia à modernidade.  
 II. há uma grave contradição na sociedade moderna.  
 III. é um alerta para o fato de que a tecnologia pode ser usada tanto para o bem quanto para o mal.  
 IV. a matança através de tiros tornou-se obsoleta para os nazistas.

Marque a resposta CORRETA:

- (A) apenas a alternativa I está correta
- (B) apenas a alternativa II está correta
- (C) as alternativas II, III e IV estão corretas
- (D) todas as alternativas estão corretas

### QUESTÃO 12

Em relação ao texto **anterior**, é possível afirmar que:

- I. predomina a narração
- II. é uma descrição
- III. é narrativo-descritivo
- IV. é dissertativo

Marque a alternativa CORRETA:

- (A) a I e a II estão corretas
- (B) a II e a III estão corretas
- (C) apenas a II está correta
- (D) apenas a IV está correta

### QUESTÃO 13

Ao passarmos a frase “Auschwitz é tão ocidental e moderno quanto a calça jeans” de afirmativa para interrogativa e acrescentarmos a palavra “porque” no final, este “porque” deve ser grafado, de acordo com a norma culta, da seguinte forma:

- (A) por que
- (B) por quê
- (C) porquê
- (D) porque

### QUESTÃO 14

Modalidade de correspondência oficial, que é um resumo escrito dos fatos e decisões de uma reunião ou assembléia, contendo um termo de abertura e um termo de encerramento, e que deve ser assinada pelos membros presentes.

- (A) edital
- (B) requerimento
- (C) memorando
- (D) ata

### QUESTÃO 15

Qual o tipo de correspondência oficial usada por um chefe de seção para se dirigir, ao mesmo tempo, a vários servidores ou repartições públicas ou ao público em geral?

- (A) exposição de motivos
- (B) circular
- (C) memorando
- (D) ofício

## PROVA DE INFORMÁTICA

### QUESTÃO 16

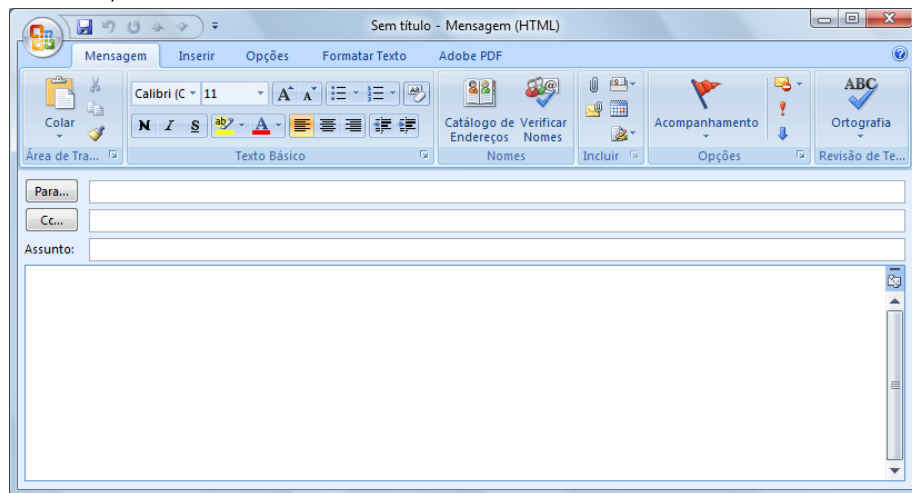
No Microsoft Office Word 2007, em português, várias teclas de atalho podem ser utilizadas a fim de agilizar o trabalho com a edição e formatação de documentos. Relacione a primeira coluna com a segunda de acordo com a sua funcionalidade e depois assinale a alternativa que apresenta a sequência CORRETA.



- (1) Ctrl + A ( ) Mostra a janela Imprimir.
- (2) Ctrl + Y ( ) Mostra a janela Localizar e Substituir com a aba Substituir ativa.
- (3) Ctrl + S ( ) Formata como sublinhado.
- (4) Ctrl + U ( ) Mostra a janela Abrir.
- (5) Ctrl + P ( ) Repete a última operação realizada pelo usuário.

- (A) 5 – 3 – 4 – 2 – 1
- (B) 5 – 4 – 3 – 1 – 2
- (C) 2 – 4 – 3 – 1 – 5
- (D) 4 – 3 – 1 – 2 – 5

### QUESTÃO 17

Ao criar uma nova mensagem no Microsoft Office Outlook 2007, em português, nos deparamos com a tela apresentada a seguir. Diante deste contexto, analise as assertivas.



- I. Para adicionar o campo CCo (abreviação de com cópia oculta) nesta mensagem, é preciso selecionar a opção “Mostrar Cco” localizada no menu Opções.
- II. Para enviar cópia desta mensagem para diversos destinatários de uma única vez, pode-se colocar o endereço eletrônico de cada um dos destinatários no campo “Cc”, separado por ponto-e-vírgula.
- III. Para anexar arquivos à mensagem, é preciso clicar no botão  ou selecionar a opção “Inserir Arquivo” localizada no menu Inserir.
- IV. Para especificar que uma mensagem necessita de uma maior segurança porque contém informações sigilosas, é preciso clicar no botão .

São VERDADEIRAS somente as assertivas.

- (A) I, II e IV
- (B) I, II e III
- (C) II, III e IV
- (D) III e IV

### QUESTÃO 18

Sobre navegadores (*browsers*), é correto afirmar que são:

- (A) programas que permitem visualizar páginas da Web e explorar a Internet.
- (B) programas que fazem buscas em bancos de dados de sites a partir de palavras-chave.
- (C) endereços de uma conexão de rede que identifica o proprietário desse endereço em um formato hierárquico, como por exemplo, “www.araguaina.to.gov.br”.
- (D) dispositivos que conectam o seu computador à Internet por meio de linha telefônica para navegar entre as páginas da Web.

### QUESTÃO 19

Como estamos vivendo numa era em que a informação é bastante valiosa nas organizações, a sua segurança é imprescindível para todo e qualquer sistema de informações. Dentre os cinco princípios da Segurança da Informação, destaca-se a **Integridade** que visa:

- (A) fazer a verificação da identidade das pessoas autorizadas em um sistema.
- (B) prover suporte para que as informações estejam sempre disponíveis quando requisitadas.
- (C) controlar o acesso às informações, possibilitando que somente pessoas autorizadas tenham acesso às informações confidenciais.
- (D) prevenir a modificação não autorizada de informações.

### QUESTÃO 20

No sistema operacional Windows Vista Home Basic, em português, para compartilhar a pasta **Temp** com outros usuários utilizando o Windows Explorer é preciso realizar os seguintes passos:

- (A) selecionar a pasta Temp; clicar com o botão direito do mouse; selecionar a opção “Compartilhar...”; adicionar os usuários com os quais irá compartilhar; clicar no botão “Compartilhar” e clicar no botão “Continuar”.
- (B) selecionar a pasta Temp; clicar com o botão direito do mouse; selecionar a opção “Usuários”; adicionar os usuários com os quais irá compartilhar; clicar no botão “Compartilhar” e clicar no botão “Confirmar”.

- (C) selecionar a pasta Temp; clicar com o botão esquerdo do mouse; selecionar a opção “Compartilhar”; adicionar os usuários com os quais irá compartilhar e clicar no botão “Confirmar”.
- (D) selecionar a pasta Temp; clicar com o botão direito do mouse; selecionar a opção “Adicionar Arquivo para Compartilhamento”; adicionar os usuários com os quais irá compartilhar e clicar no botão “Salvar”.

### QUESTÃO 21

A planilha a seguir foi elaborada usando o Microsoft Office Excel 2007 em português.

Caso a fórmula

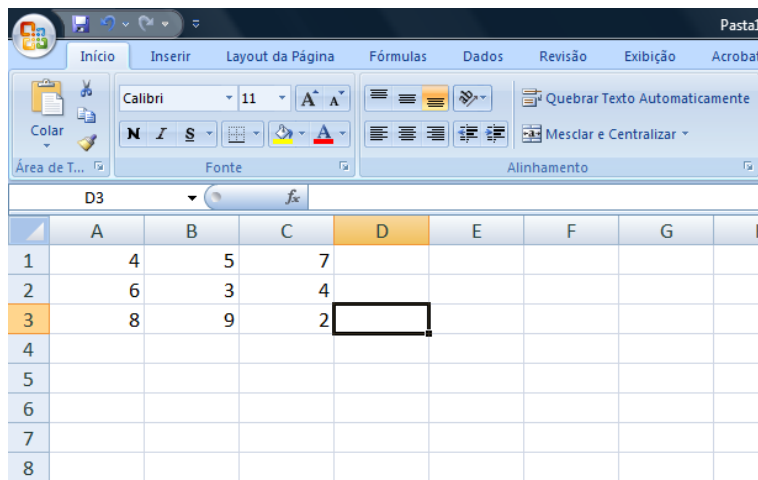
**=SE(MÉDIA(A1:A3)>3;MÁXIMO(B1:C2);MÍNIMO(A1:C3))**

seja digitada na célula D3, assinale a alternativa que contém o valor do resultado da fórmula.

- (A) 9  
(B) 5  
(C) 7  
(D) 4

### QUESTÃO 22

É possível adicionar, remover ou configurar uma impressora ao computador em uma instalação padrão do Windows Vista, em português, com o auxílio do mouse, a partir da seguinte sequência:



	A	B	C	D	E	F	G	H
1	4	5	7					
2	6	3	4					
3	8	9	2					
4								
5								
6								
7								
8								

- (A) Iniciar / Programas / Impressoras.  
(B) Iniciar / Configurações / Impressoras.  
(C) Iniciar / Executar / Impressoras.  
(D) Iniciar / Dispositivos / Impressoras.

### QUESTÃO 23

Analise as seguintes afirmações sobre conceitos relacionados à Internet.

- I. Provedor é uma empresa prestadora de serviços que oferece acesso à Internet. Alguns exemplos de provedores são AOL, Terra e UOL.
- II. Intranet é uma rede pública que utiliza as mesmas tecnologias da internet em termos de disponibilização de informações e forma de navegação.
- III. HTTP é o protocolo utilizado para serviços de documentos hipertexto.
- IV. Servidor é um computador que administra e fornece programas e informações para os outros computadores conectados em rede.

São VERDADEIRAS somente as seguintes afirmações.



- (A) I, II e III  
(B) II e IV  
(C) I, III e IV  
(D) II e IV

### QUESTÃO 24

Considere que você esteja usando o sistema operacional Windows Vista Home Basic, em português, e que 5 janelas estão abertas no momento. Para exibir a área de trabalho (Desktop) mais rapidamente sem a necessidade de minimizar ou fechar essas janelas, é preciso que você acione, ao mesmo tempo, as teclas:

- (A) Windows (com o logotipo do produto) e D  
(B) Alt e Tab  
(C) Alt e F4  
(D) Shift e Windows (com o logotipo do produto) e D

**QUESTÃO 25**

No Internet Explorer 8, em português e na sua configuração padrão, os botões  e  têm, respectivamente, os seguintes significados:

- (A) abrir a página web atual em uma nova janela e organizar favoritos.
- (B) recarregar a página web anterior e abrir favoritos.
- (C) selecionar todos os itens da página; abrir histórico.
- (D) atualizar a página web atual e ir para a página inicial.

**PROVA DE CONHECIMENTOS REGIONAIS****QUESTÃO 26**

“Na década de 1950, a região norte de Goiás, atual Tocantins, já tinha vivenciado três grandes fases de desenvolvimento: o ouro, a agropecuária-navegação e o cristal de rocha, e ainda vivia num abandono e isolamento. Sem estrada nem comunicação, o único meio de transporte era a rota hidroviária pelo rio Tocantins, que funcionava precariamente. Bem diferente da realidade da parte sul que já contava com uma rede urbana estruturada, estradas e ferrovias”. (NASCIMENTO, 2009). De acordo com o texto, é **CORRETO** afirmar que:

- (A) mesmo com as três fases de desenvolvimento o antigo norte do estado de Goiás, atual estado do Tocantins, sofria com a falta de infraestrutura, como estradas e comunicação enquanto a parte sul do estado de Goiás prosperava.
- (B) independente das três fases de desenvolvimento das atividades econômicas, a infraestrutura, como estradas e comunicação, continuavam em plena expansão no antigo norte do estado de Goiás, atual estado do Tocantins.
- (C) a falta de infraestrutura como estradas e comunicação na década de 1950, no antigo norte do estado de Goiás, atual estado do Tocantins, era resultado do intenso incentivo por parte do governo local para a população utilizar as modernas instalações hidroviárias do rio Tocantins.
- (D) a falta de infraestrutura como estradas e comunicação que atingiu o antigo norte do estado de Goiás, atual estado do Tocantins, na década de 1950 foi resultado da ausência de qualquer atividade econômica na região ao longo de toda sua história.

**QUESTÃO 27**

Considere as três atividades econômicas desenvolvidas na região que constitui o estado do Tocantins em diferentes momentos históricos, abaixo:

- I. Mineração de Ouro
- II. Agropecuária-Navegação
- III. Cristal de Rocha

Assinale a alternativa **CORRETA** que indique o nome de uma cidade que se formou em cada atividade econômica elucidada acima, respectivamente:

- (A) (I) Formoso; (II) Conceição; (III) Paraíso.
- (B) (I) Alvorada; (II) Xambioá; (III) Monte do Carmo.
- (C) (I) Natividade; (II) Tocantinópolis; (III) Pium.
- (D) (I) Araguaína; (II) Araguaçu; (III) Araguaatins.

**QUESTÃO 28**

O quartzo, ou cristal de rocha, foi descoberto no vale do rio Araguaia e impulsionou o povoamento de grande parte do estado do Tocantins. Esta descoberta ocorreu durante a Expedição Rocandor-Xingu que atendia aos interesses de uma política de integração nacional para a ocupação do interior do território brasileiro. Esta política ficou conhecida como:

- (A) Marcha para o Oeste.
- (B) Plano de Metas.
- (C) Programa de Aceleração do Crescimento.
- (D) Tratado de Madrid.

**QUESTÃO 29**

Na década de 1980 foi fundada uma comissão que tinha por finalidade realizar estudos sobre os problemas norte goianos e incentivar o movimento pela criação do estado do Tocantins fazendo uso, principalmente, de uma campanha de marketing que tinha por finalidade massificar a questão da emancipação do norte goiano por meio da publicação de livros, jornais, entre outras atividades. O enunciado trata da:

- (A) CENOG
- (B) CONORTE
- (C) CEPAL
- (D) COPOM

**QUESTÃO 30**

O artigo 13 do Ato das Disposições Constitucionais Transitórias da Constituição da República Federativa do Brasil de 1988 estabelece que:

- (A) é criado o Território do Tocantins, entretanto, a decisão de realizar eleição para governador, vice-governador, deputados estaduais, federais e senadores somente seria tomada após consulta popular, por meio de plebiscito.
- (B) é criado o Estado do Tocantins e o governador, vice-governador, deputados estaduais, federais e senadores seriam eleitos democraticamente por meio de eleição indireta pelo Tribunal Superior Eleitoral.
- (C) é criado o Território do Tocantins e sua capital seria instalada em Miracema do Tocantins.
- (D) é criado o Estado do Tocantins fazendo limite com estados das regiões norte, nordeste e centro-oeste do Brasil.

**QUESTÃO 31**

Ao analisarmos o processo de ocupação do espaço tocaninense, verifica-se que o mesmo, em diferentes momentos históricos e contextos espaciais, foi habitado, colonizado e explorado por distintos atores sociais como indígenas, bandeirantes, religiosos, pecuaristas, mineradores, escravos africanos, extrativistas, agricultores, entre outros, que deixaram suas marcas e contribuíram para a formação da memória e da identidade cultural tocaninense. De acordo com o enunciado acima, é CORRETO afirmar que:

- (A) embora distintos eventos tenham contribuído com a formação histórica do estado do Tocantins, somente os atuais processos de implantação de meios de transportes, como rodovias e ferrovias, deram significativo sentido à construção da territorialidade cultural tocaninense.
- (B) a territorialidade cultural é constituída apenas pelo aprimoramento dos sistemas de transportes e comunicações modernos, o que nos permite desprezar os atores sociais e seus contextos históricos nesta análise.
- (C) o universo cultural tocaninense foi constituído pela influência de distintos atores sociais que, à sua maneira, e de acordo com o contexto histórico em que viveram, contribuíram com a formação e delimitação do território tocaninense.
- (D) os momentos históricos e seus respectivos atores sociais não têm importância no processo de construção da territorialidade cultural tocaninense haja vista que, tanto memória quanto identidade não são consideradas nesta análise.

**QUESTÃO 32**

De acordo com o IBGE, a microrregião de Araguaína é composta por dezessete municípios, possuindo uma área total de pouco mais de 26.000 km<sup>2</sup> e com uma população estimada em 260.490 habitantes, segundo o IBGE (2006). Diante do exposto é CORRETO afirmar que:

- (A) os municípios de Aragominas, Araguaína, Arapoema, Babaçulândia, Bandeirantes do Tocantins, Carmolândia, Colinas do Tocantins, Filadélfia, fazem parte da microrregião de Araguaína.
- (B) não existe microrregião de Araguaína. Na verdade Araguaína é considerada uma mesorregião pela sua influência exercida sobre todo o norte tocaninense.
- (C) a microrregião de Araguaína é constituída por apenas cinco municípios, quais sejam: Carmolândia, Santa Fé do Araguaia, Nova Olinda, Wanderlândia e Muricilândia.
- (D) a microrregião de Araguaína é composta de alguns municípios que se localizam no estado do Pará, a exemplo de São Geraldo do Araguaia e Conceição do Araguaia.

**QUESTÃO 33**

Sabe-se que o sistema hidrográfico do estado do Tocantins é composto por duas grandes bacias hidrográficas que percorrem todo o território estadual. De acordo com o enunciado é CORRETO afirmar que:

- (A) a bacia composta pelo rio Araguaia é a que apresenta maior importância pois representa mais de 75% do total do estado.
- (B) a bacia do rio Tocantins abrange uma área total de 173.429,9 km<sup>2</sup>, representando cerca de 62,3% do total do estado, fato este que se justifica porque o rio Tocantins sempre corre pelo lado oeste do estado.
- (C) o rio Araguaia deságua no Tocantins, na região do Bico do Papagaio. O Tocantins por sua vez segue seu rumo até desembocar no Oceano Pacífico nas proximidades do Amapá.
- (D) o rio Araguaia após percorrer toda a porção ocidental do estado encontra-se com o rio Tocantins na região do Bico do Papagaio.

**QUESTÃO 34**

A construção da rodovia Belém-Brasília (BR-153) é resultado das políticas de integração territorial implementadas pelo então presidente Juscelino Kubitschek. Tal rodovia influenciou o crescimento econômico de várias

idades do estado do Tocantins. Sobre esta questão é CORRETO afirmar que:

- (A) a cidade de Palmas beneficiou-se, em larga medida, com a construção da Belém-Brasília, uma vez que registrou-se um aumento significativo das atividades econômicas bem como de sua população.
- (B) na verdade, apenas as cidades que margeavam os rios Araguaia e Tocantins, foram as maiores beneficiadas após a construção da BR-153.
- (C) a cidade de Araguaína apresentou um forte incremento em seu processo de urbanização após a construção da rodovia Belém-Brasília.
- (D) pode-se dizer também, que Tocantinópolis registrou um aumento significativo de suas atividades econômicas, bem como de seus índices populacionais após a implantação da BR-153.

### QUESTÃO 35

De acordo com a divisão político-administrativa o estado do Tocantins possui 139 municípios em uma área aproximada de 277.620 km<sup>2</sup>, estendendo-se no sentido norte-sul com 899,5km e de leste a oeste com uma extensão total de 515,4 km. De acordo com o exposto é CORRETO afirmar que:

- (A) os estados da Bahia, Maranhão e Piauí fazem divisa com o Tocantins em sua porção centro-ocidental.
- (B) os estados de Goiás, Pará, Mato Grosso e Maranhão fazem divisa com o Tocantins na porção leste.
- (C) o território tocantinense apresenta maiores extensões no sentido norte-sul, principalmente na área que faz divisa com a Bahia.
- (D) os estados do Maranhão, Pará, Mato Grosso, Goiás, Piauí e Bahia fazem divisa com o Tocantins.

### QUESTÃO 36

A descoberta do ouro durante o domínio português causou uma série de transformações no processo de ocupação do Brasil, pois várias cidades surgiram para além dos limites da Zona Costeira Atlântica. O antigo norte de Goiás, hoje Tocantins, é também testemunha da corrida por esse metal precioso, pois para cá vieram muitos aventureiros portugueses tentar a sorte. Tomando como base o enunciado é CORRETO afirmar que:

- (A) as cidades tocantinenses que mais se destacaram durante o ciclo do ouro são aquelas situadas no extremo norte do estado, a exemplo de Buriti do Tocantins, Esperantina e São Sebastião do Tocantins.

- (B) as cidades de Natividade, Arraias, Almas, Chapada de Natividade, Monte do Carmo e Palmeiras surgiram na época da descoberta do ouro no século XVIII.
- (C) as cidades de Natividade, Arraias, Almas, Chapada de Natividade, Monte do Carmo, Dianópolis e Porto Nacional surgiram na época da descoberta do ouro.
- (D) o ciclo do ouro só teve maiores repercussões e só propiciou o surgimento de cidades apenas nas Minas Gerais.

### QUESTÃO 37

Do ponto de vista populacional sabe-se que o estado do Tocantins possui uma baixa densidade demográfica, assim como toda a região norte do Brasil. Esse fato pode também ser explicado pelas características do processo de ocupação do território brasileiro que se iniciou às margens do Oceano Atlântico. De acordo com o texto e levando-se em consideração a estimativa da população do IBGE (2009) é CORRETO afirmar que:

- (A) Chapada de Areia é o município que apresenta a menor população de todo o estado do Tocantins.
- (B) o município de Oliveira de Fátima é o que apresenta a menor população de todo o estado do Tocantins.
- (C) Palmas, Araguaína, Dianópolis, Gurupi, Colinas do Tocantins, Paraíso do Tocantins são, em ordem decrescente, as mais populosas do Tocantins.
- (D) a população do Tocantins, de acordo com a estimativa do IBGE (2009) já superou os dois milhões de habitantes.

### QUESTÃO 38

No território tocantinense o Cerrado é o domínio vegetal mais representativo, pois abrange mais de 80% da cobertura vegetal do estado. Este é também o ecossistema que tem mais sofrido os impactos causados pelas ações do homem. Sobre o Cerrado é CORRETO dizer que:

- (A) o Cerrado apresenta como principais características árvores baixas, muito concentradas, as raízes são, em sua maioria, superficiais, o solo é muito rico em nutrientes, evidenciando que não há necessidade de correção de acidez.
- (B) as árvores do Cerrado são relativamente pequenas, esparsas, com troncos e galhos retorcidos e tortuosos, as raízes são, em sua maioria, profundas.



- (C) caracteriza-se por apresentar árvores muito altas, distribuídas regularmente, apresentando uma grande semelhança com a Mata Atlântica e a Floresta Equatorial Amazônica.
- (D) o Cerrado no Tocantins ainda está muito bem preservado, pois a cultura da soja, a pecuária, dentre outras atividades econômicas agrícolas têm sido conduzidas pelo desenvolvimento sustentável.

### QUESTÃO 39

O Código de Vigilância Sanitária do Município de Araguaína dispõe no Capítulo II, Seção III, sobre a coleta e disposição de resíduos, cujo Artigo 31 define o que pode ser considerado resíduos especiais. De acordo com este documento a alternativa CORRETA que elucida os resíduos considerados especiais é:

- (A) resíduos hospitalares; resíduos de laboratórios de análises e patologias clínicas; resíduos de farmácias e drogarias; resíduos radioativos; resíduos de clínicas e hospitais veterinários; resíduos de consultórios e clínicas odontológicas; resíduos químicos.
- (B) resíduos hospitalares; resíduos de laboratórios de análises e patologias clínicas; resíduos de farmácias e drogarias; resíduos comerciais e industriais; resíduos químicos; resíduos radioativos; resíduos de clínicas e hospitais veterinários; resíduos de consultórios e clínicas odontológicas.
- (C) resíduos hospitalares; resíduos de laboratórios de análises e patologias clínicas; resíduos de farmácias e drogarias; resíduos químicos; resíduos radioativos; resíduos de clínicas e hospitais veterinários e resíduos comerciais de riscos.
- (D) resíduos hospitalares; resíduos de laboratórios de análises e patologias clínicas; resíduos de farmácias e drogarias; resíduos químicos; resíduos de clínicas e hospitais veterinários; resíduos de consultórios e clínicas veterinárias e resíduos de áreas insalubres comerciais.

### QUESTÃO 40

Assinale a alternativa CORRETA quanto ao que o Código de Vigilância Sanitária do Município de Araguaína considera como profissionais da saúde, e que, portanto, estão sujeitos à fiscalização e às normas do referido Código.

- (A) Massagistas, tecnólogos em saneamento ambiental, agrônomos, assistentes sociais, psicólogos e farmacêuticos.

- (B) Massagistas, tecnólogos em saneamento ambiental, agrônomos, assistentes sociais, psicólogos, farmacêuticos, engenheiros civis e médicos.
- (C) Massagistas, tecnólogos em saneamento ambiental e em solos, agrônomos, assistentes sociais, psicólogos, farmacêuticos, médicos e enfermeiros.
- (D) Médicos, massagistas, tecnólogos em solos, engenheiros civis, analistas de estruturas físicas, analistas de sistemas, agrônomos, assistentes sociais, psicólogos e farmacêuticos.