

LINGUA PORTUGUESA – NÍVEL INTERMEDIÁRIO

Leia o texto abaixo para responder à questão 01:

Deixei cair a luneta, e quase me ajoelhei para adorar a angélica moça. Creio nos amores **que** de repente conquistam e escravizam corações. Creio nas paixões **que** de improviso se acendem. Creio nos amores e nas paixões **que** os romances nos descrevem inspirados em um momento pelos encantos de jovens famosos e de prestígio deslumbrante.

Joaquim Manuel de Macedo, *A Luneta Mágica*.

QUESTÃO 01

Pela leitura do texto, podemos afirmar que a palavra **que**, em destaque acima, exerce a função de:

- (A) pronome apassivador
- (B) pronome interrogativo
- (C) pronome relativo
- (D) pronome demonstrativo

QUESTÃO 02

Indique a alternativa em que há o uso CORRETO dos sinônimos:

- (A) eminente = superior, sublime, excelente.
- (B) emergência = ocorrência, saliência, aparecimento.
- (C) eminência = altura, pendente, incidente.
- (D) iminente = sobranceiro, elevação, ameaçador.

QUESTÃO 03

Indique a alternativa em que o uso da palavra iminente está INCORRETO:

- (A) É iminente a crise financeira no Brasil!
- (B) Tivemos que sair do local, o prédio estava pegando fogo e o perigo era iminente.
- (C) O risco de pegar a gripe suína no México é iminente!
- (D) Ele chegou ao mais iminente posto na academia

QUESTÃO 04

“Vamos sair da crise, **porém** não sairemos mais competitivos” (Marcelo Rehder, *Jornal O Estado de S. Paulo*, 03/08/09).

Em relação ao texto acima, Indique a alternativa em que todas as conjunções podem substituir a conjunção **porém**, encontrada no texto acima, sem alterar o sentido:

- (A) mas, contudo, todavia.
- (B) todavia, mas, contudo.
- (C) mas, portanto, todavia.
- (D) contudo, portanto, mas.

QUESTÃO 05

Indique a alternativa em que o uso do plural dos substantivos está CORRETO:

- (A) sótãos, acórdãos, catalões, aviãos, alemães, eremitões.
- (B) balões, frações, tabeliães, capelães, órfãos, eremitães.
- (C) vulcães, capelãos, eremitãos, tabeliões, cortesões, cidadãos.
- (D) catalões, balões, frações, eremitões, tabeliães, capelães.

QUESTÃO 06

Indique a alternativa em que uso do superlativo relativo está CORRETO:

- (A) Aquela planta é a pior cuidada do jardim.
- (B) Esse bairro é o mais bem servido da cidade.
- (C) Esse bairro é o melhor situado da cidade.
- (D) Estes idosos são os piores assistidos da região.

QUESTÃO 07

Assinale a alternativa em que a concordância verbal está INCORRETA:

- (A) Se houveram tantos mortos, possivelmente haverá muito poucos sobreviventes.
- (B) Se houve tantos mortos, provavelmente haverá poucos sobreviventes.
- (C) Muitos haverão de se lamentar e chorar a perda dos seus pelo resto da vida.
- (D) Há lembranças de momentos inesquecíveis, apesar de tudo.

QUESTÃO 08

Alteramos intencionalmente a pontuação do texto abaixo, que é excerto da obra *As Pupilas do Senhor Reitor*, de Júlio Diniz.

Indique a alternativa em que o uso da pontuação está correto:

- (A) - *Fraca! Fraca! - dizia entre soluços – que não tive forças para me sustentar até o fim! Vá, vá, acabem de correr por uma vez essas lágrimas; e que sejam as últimas; que ninguém as veja mais nos olhos. A causa . . . a causa . . . Oh! Essa ninguém há de adivinhar.*
- (B) - *Fraca. Fraca - dizia entre soluços – que não tive forças para me sustentar, até o fim! Vá, vá, acabem de correr por uma vez essas lágrimas, e que sejam as últimas; que ninguém as veja mais nos olhos. A causa . . . a causa . . . Oh! Essa ninguém há de adivinhar.*
- (C) - *Fraca! Fraca! - dizia entre soluços – que não tive forças para me sustentar, até o fim! Vá, vá, acabem de correr por uma vez essas lágrimas, e que, sejam as últimas que ninguém as veja mais nos olhos. A causa, a causa. Oh Essa ninguém há de adivinhar.*
- (D) - *Fraca! Fraca! - dizia entre soluços que não tive forças para me sustentar até o fim! Vá, vá, acabem de correr por uma vez essas lágrimas; e que sejam as últimas que ninguém as veja mais nos olhos. A causa . . . a causa . . . Oh! Essa ninguém a há de adivinhar.*

QUESTÃO 09

Preencha os espaços do texto com as palavras de uma das alternativas abaixo:

_____ muitos anos que Daniel observava um sistema de vida, que de todo _____ trazia desfeito _____ hábitos campestres e indiferente _____ coisas e pessoas da localidade que o vira nascer.

- (A) haviam, o, os, às.
 (B) havia, lhe, os, as.
 (C) havia, o, dos, às.
 (D) haviam, o, os, às.

QUESTÃO 10

Assinale a alternativa em que todas as expressões são de regência nominal.

- (A) amor ao próximo, necessidade de falar, obrigação de se sustentar, desejo de comer melancia, dedicação aos estudos.
 (B) obedecer às leis, amar a Deus, dedicação aos estudos, sentir-se a vontade, desejo de comer melancia.
 (C) necessidade de falar, obrigação de se sustentar, obedecer às leis, dar presente a alguém, dedicação aos estudos.
 (D) amor ao próximo, necessidade de falar, obrigação de se sustentar, desejo de comer melancia, morar em Paris.

Leia o texto abaixo para responder às questões de 11 a 15.

“O Holocausto foi executado na sociedade moderna e racional, em nosso alto estágio de civilização e no auge do desenvolvimento cultural humano. Por isso, é um problema da nossa civilização e da nossa sociedade”, diz o sociólogo polonês Zygmunt Baumann, autor de *Modernidade e Holocausto*. Por isso é tão difícil falar abertamente sobre o assunto. O nazismo diz respeito a nós. Auschwitz é tão ocidental e moderno quanto a calça jeans. O Holocausto foi feito ao modo moderno: racional, planejado, “cientificamente” fundamentado, especializado, burocrático, eficiente. [...]

Quando os nazistas perceberam que tiros não seriam suficientes para eliminar os 11 milhões de judeus da Europa, recorreram a outra solução moderna, as câmaras de gás, inspiradas nas mais avançadas tecnologias de dedetização. Auschwitz era uma fábrica de matar – tinha capacidade para queimar 4.756 corpos por dia em 5 crematórios. Uma grande “inovação”, se comparada aos métodos usados pelos turcos contra os armênios em 1915: fuzilamento, golpes de clavas e baionetas.

A tecnologia moderna libertou o homem de séculos de domínio da natureza. Graças a ela, o homem pela primeira vez acreditou que não era apenas uma “criatura de Deus”, à mercê de Seus desígnios, mas um sujeito capaz de moldar o mundo. Foi justamente o que os nazistas quiseram fazer: mudar a Terra, construir sua utopia. E pretendiam fazer isso do jeito moderno: sem questionamentos morais, em nome do “progresso”.

Eduardo Skklarz. *Nazismo: 4ª. Idéia: a fria modernidade*. Revista Super Interessante, n.215, julho de 2005. p. 43.

QUESTÃO 11

A partir da interpretação do texto acima, podemos afirmar que:

- I. trata-se de uma apologia à modernidade.
 II. há uma grave contradição na sociedade moderna.
 III. é um alerta para o fato de que a tecnologia pode ser usada tanto para o bem quanto para o mal.
 IV. a matança através de tiros tornou-se obsoleta para os nazistas.

Marque a resposta CORRETA:

- (A) apenas a alternativa I está correta
- (B) apenas a alternativa II está correta
- (C) as alternativas II, III e IV estão corretas
- (D) todas as alternativas estão corretas

QUESTÃO 12

Em relação ao texto anterior, é possível afirmar que:

- I. predomina a narração
- II. é uma descrição
- III. é narrativo-descritivo
- IV. é dissertativo

Marque a alternativa CORRETA:

- (A) a I e a II estão corretas
- (B) a II e a III estão corretas
- (C) apenas a II está correta
- (D) apenas a IV está correta

QUESTÃO 13

Ao passarmos a frase “Auschwitz é tão ocidental e moderno quanto a calça jeans” de afirmativa para interrogativa e acrescentarmos a palavra “porque” no final, este “porque” deve ser grafado, de acordo com a norma culta, da seguinte forma:

- (A) por que
- (B) por quê
- (C) porquê
- (D) porque

QUESTÃO 14

Modalidade de correspondência oficial, que é um resumo escrito dos fatos e decisões de uma reunião ou assembléia, contendo um termo de abertura e um termo de encerramento, e que deve ser assinada pelos membros presentes.

- (A) edital
- (B) requerimento
- (C) memorando
- (D) ata

QUESTÃO 15

Qual o tipo de correspondência oficial usada por um chefe de seção para se dirigir, ao mesmo tempo, a vários servidores ou repartições públicas ou ao público em geral?

- (A) exposição de motivos
- (B) circular
- (C) memorando
- (D) ofício

PROVA DE INFORMÁTICA

QUESTÃO 16

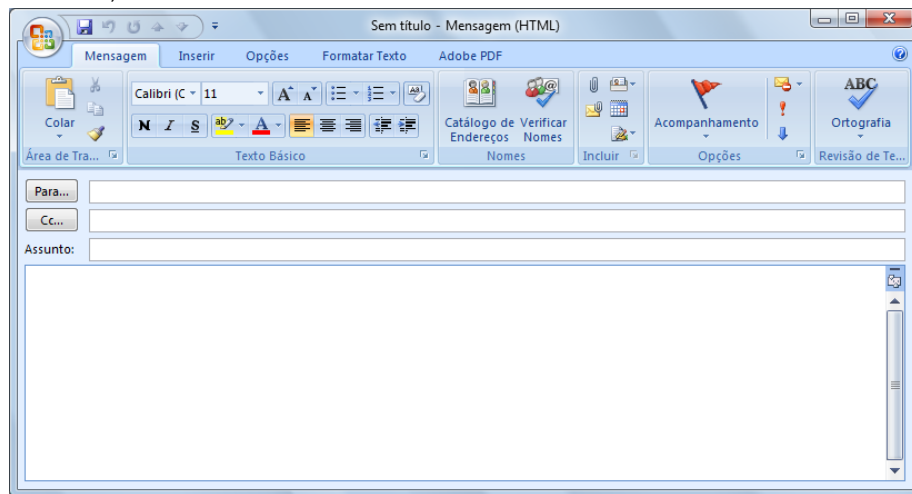
No Microsoft Office Word 2007, em português, várias teclas de atalho podem ser utilizadas a fim de agilizar o trabalho com a edição e formatação de documentos. Relacione a primeira coluna com a segunda de acordo com a sua funcionalidade e depois assinale a alternativa que apresenta a sequência CORRETA.



- (1) Ctrl + A () Mostra a janela Imprimir.
- (2) Ctrl + Y () Mostra a janela Localizar e Substituir com a aba Substituir ativa.
- (3) Ctrl + S () Formata como sublinhado.
- (4) Ctrl + U () Mostra a janela Abrir.
- (5) Ctrl + P () Repete a última operação realizada pelo usuário.

- (A) 5 – 3 – 4 – 2 – 1
- (B) 5 – 4 – 3 – 1 – 2
- (C) 2 – 4 – 3 – 1 – 5
- (D) 4 – 3 – 1 – 2 – 5

QUESTÃO 17

Ao criar uma nova mensagem no Microsoft Office Outlook 2007, em português, nos deparamos com a tela apresentada a seguir. Diante deste contexto, analise as assertivas.



- I. Para adicionar o campo CCo (abreviação de com cópia oculta) nesta mensagem, é preciso selecionar a opção “Mostrar Cco” localizada no menu Opções.
- II. Para enviar cópia desta mensagem para diversos destinatários de uma única vez, pode-se colocar o endereço eletrônico de cada um dos destinatários no campo “Cc”, separado por ponto-e-vírgula.
- III. Para anexar arquivos à mensagem, é preciso clicar no botão  ou selecionar a opção “Inserir Arquivo” localizada no menu Inserir.
- IV. Para especificar que uma mensagem necessita de uma maior segurança porque contém informações sigilosas, é preciso clicar no botão .

São VERDADEIRAS somente as assertivas.

- (A) I, II e IV
- (B) I, II e III
- (C) II, III e IV
- (D) III e IV

QUESTÃO 18

Sobre navegadores (*browsers*), é correto afirmar que são:

- (A) programas que permitem visualizar páginas da Web e explorar a Internet.
- (B) programas que fazem buscas em bancos de dados de sites a partir de palavras-chave.
- (C) endereços de uma conexão de rede que identifica o proprietário desse endereço em um formato hierárquico, como por exemplo, “www.araguaina.to.gov.br”.
- (D) dispositivos que conectam o seu computador à Internet por meio de linha telefônica para navegar entre as páginas da Web.

QUESTÃO 19

Como estamos vivendo numa era em que a informação é bastante valiosa nas organizações, a sua segurança é imprescindível para todo e qualquer sistema de informações. Dentre os cinco princípios da Segurança da Informação, destaca-se a **Integridade** que visa:

- (A) fazer a verificação da identidade das pessoas autorizadas em um sistema.
- (B) prover suporte para que as informações estejam sempre disponíveis quando requisitadas.
- (C) controlar o acesso às informações, possibilitando que somente pessoas autorizadas tenham acesso às informações confidenciais.
- (D) prevenir a modificação não autorizada de informações.

QUESTÃO 20

No sistema operacional Windows Vista Home Basic, em português, para compartilhar a pasta **Temp** com outros usuários utilizando o Windows Explorer é preciso realizar os seguintes passos:

- (A) selecionar a pasta Temp; clicar com o botão direito do mouse; selecionar a opção “Compartilhar...”; adicionar os usuários com os quais irá compartilhar; clicar no botão “Compartilhar” e clicar no botão “Continuar”.
- (B) selecionar a pasta Temp; clicar com o botão direito do mouse; selecionar a opção “Usuários”; adicionar os usuários com os quais irá compartilhar; clicar no botão “Compartilhar” e clicar no botão “Confirmar”.

- (C) selecionar a pasta Temp; clicar com o botão esquerdo do mouse; selecionar a opção “Compartilhar”; adicionar os usuários com os quais irá compartilhar e clicar no botão “Confirmar”.
- (D) selecionar a pasta Temp; clicar com o botão direito do mouse; selecionar a opção “Adicionar Arquivo para Compartilhamento”; adicionar os usuários com os quais irá compartilhar e clicar no botão “Salvar”.

QUESTÃO 21

A planilha a seguir foi elaborada usando o Microsoft Office Excel 2007 em português.

Caso a fórmula

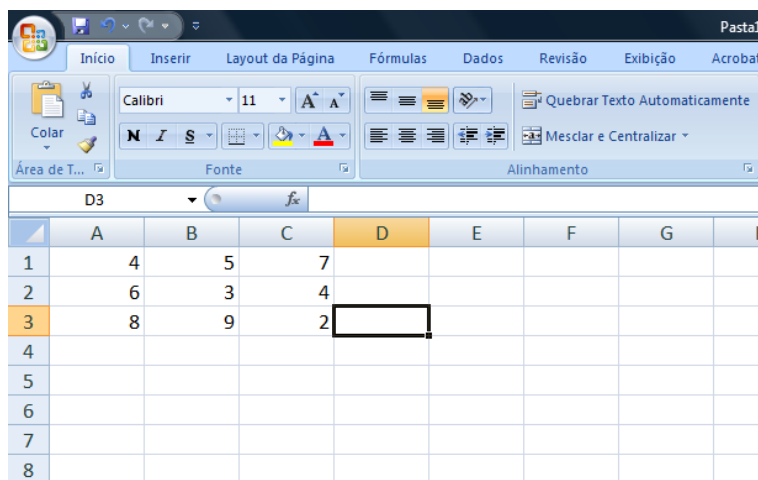
=SE(MÉDIA(A1:A3)>3;MÁXIMO(B1:C2);MÍNIMO(A1:C3))

seja digitada na célula D3, assinale a alternativa que contém o valor do resultado da fórmula.

- (A) 9
(B) 5
(C) 7
(D) 4

QUESTÃO 22

É possível adicionar, remover ou configurar uma impressora ao computador em uma instalação padrão do Windows Vista, em português, com o auxílio do mouse, a partir da seguinte sequência:



	A	B	C	D	E	F	G	H
1	4	5	7					
2	6	3	4					
3	8	9	2					
4								
5								
6								
7								
8								

- (A) Iniciar / Programas / Impressoras.
(B) Iniciar / Configurações / Impressoras.
(C) Iniciar / Executar / Impressoras.
(D) Iniciar / Dispositivos / Impressoras.

QUESTÃO 23

Analise as seguintes afirmações sobre conceitos relacionados à Internet.

- I. Provedor é uma empresa prestadora de serviços que oferece acesso à Internet. Alguns exemplos de provedores são AOL, Terra e UOL.
- II. Intranet é uma rede pública que utiliza as mesmas tecnologias da internet em termos de disponibilização de informações e forma de navegação.
- III. HTTP é o protocolo utilizado para serviços de documentos hipertexto.
- IV. Servidor é um computador que administra e fornece programas e informações para os outros computadores conectados em rede.

São VERDADEIRAS somente as seguintes afirmações.



- (A) I, II e III
(B) II e IV
(C) I, III e IV
(D) II e IV

QUESTÃO 24

Considere que você esteja usando o sistema operacional Windows Vista Home Basic, em português, e que 5 janelas estão abertas no momento. Para exibir a área de trabalho (Desktop) mais rapidamente sem a necessidade de minimizar ou fechar essas janelas, é preciso que você acione, ao mesmo tempo, as teclas:

- (A) Windows (com o logotipo do produto) e D
(B) Alt e Tab
(C) Alt e F4
(D) Shift e Windows (com o logotipo do produto) e D

QUESTÃO 25

No Internet Explorer 8, em português e na sua configuração padrão, os botões  e  têm, respectivamente, os seguintes significados:

- (A) abrir a página web atual em uma nova janela e organizar favoritos.
- (B) recarregar a página web anterior e abrir favoritos.
- (C) selecionar todos os itens da página; abrir histórico.
- (D) atualizar a página web atual e ir para a página inicial.

PROVA DE CONHECIMENTOS REGIONAIS**QUESTÃO 26**

“Na década de 1950, a região norte de Goiás, atual Tocantins, já tinha vivenciado três grandes fases de desenvolvimento: o ouro, a agropecuária-navegação e o cristal de rocha, e ainda vivia num abandono e isolamento. Sem estrada nem comunicação, o único meio de transporte era a rota hidroviária pelo rio Tocantins, que funcionava precariamente. Bem diferente da realidade da parte sul que já contava com uma rede urbana estruturada, estradas e ferrovias”. (NASCIMENTO, 2009). De acordo com o texto, é CORRETO afirmar que:

- (A) mesmo com as três fases de desenvolvimento o antigo norte do estado de Goiás, atual estado do Tocantins, sofria com a falta de infraestrutura, como estradas e comunicação enquanto a parte sul do estado de Goiás prosperava.
- (B) independente das três fases de desenvolvimento das atividades econômicas, a infraestrutura, como estradas e comunicação, continuavam em plena expansão no antigo norte do estado de Goiás, atual estado do Tocantins.
- (C) a falta de infraestrutura como estradas e comunicação na década de 1950, no antigo norte do estado de Goiás, atual estado do Tocantins, era resultado do intenso incentivo por parte do governo local para a população utilizar as modernas instalações hidroviárias do rio Tocantins.
- (D) a falta de infraestrutura como estradas e comunicação que atingiu o antigo norte do estado de Goiás, atual estado do Tocantins, na década de 1950 foi resultado da ausência de qualquer atividade econômica na região ao longo de toda sua história.

QUESTÃO 27

Considere as três atividades econômicas desenvolvidas na região que constitui o estado do Tocantins em diferentes momentos históricos, abaixo:

- I. Mineração de Ouro
- II. Agropecuária-Navegação
- III. Cristal de Rocha

Assinale a alternativa CORRETA que indique o nome de uma cidade que se formou em cada atividade econômica elucidada acima, respectivamente:

- (A) (I) Formoso; (II) Conceição; (III) Paraíso.
- (B) (I) Alvorada; (II) Xambioá; (III) Monte do Carmo.
- (C) (I) Natividade; (II) Tocantinópolis; (III) Pium.
- (D) (I) Araguaína; (II) Araguaçu; (III) Araguaatins.

QUESTÃO 28

O quartzo, ou cristal de rocha, foi descoberto no vale do rio Araguaia e impulsionou o povoamento de grande parte do estado do Tocantins. Esta descoberta ocorreu durante a Expedição Rocandor-Xingu que atendia aos interesses de uma política de integração nacional para a ocupação do interior do território brasileiro. Esta política ficou conhecida como:

- (A) Marcha para o Oeste.
- (B) Plano de Metas.
- (C) Programa de Aceleração do Crescimento.
- (D) Tratado de Madrid.

QUESTÃO 29

Na década de 1980 foi fundada uma comissão que tinha por finalidade realizar estudos sobre os problemas norte goianos e incentivar o movimento pela criação do estado do Tocantins fazendo uso, principalmente, de uma campanha de marketing que tinha por finalidade massificar a questão da emancipação do norte goiano por meio da publicação de livros, jornais, entre outras atividades. O enunciado trata da:

- (A) CENOG
- (B) CONORTE
- (C) CEPAL
- (D) COPOM

QUESTÃO 30

O artigo 13 do Ato das Disposições Constitucionais Transitórias da Constituição da República Federativa do Brasil de 1988 estabelece que:

- (A) é criado o Território do Tocantins, entretanto, a decisão de realizar eleição para governador, vice-governador, deputados estaduais, federais e senadores somente seria tomada após consulta popular, por meio de plebiscito.
- (B) é criado o Estado do Tocantins e o governador, vice-governador, deputados estaduais, federais e senadores seriam eleitos democraticamente por meio de eleição indireta pelo Tribunal Superior Eleitoral.
- (C) é criado o Território do Tocantins e sua capital seria instalada em Miracema do Tocantins.
- (D) é criado o Estado do Tocantins fazendo limite com estados das regiões norte, nordeste e centro-oeste do Brasil.

QUESTÃO 31

Ao analisarmos o processo de ocupação do espaço tocaninense, verifica-se que o mesmo, em diferentes momentos históricos e contextos espaciais, foi habitado, colonizado e explorado por distintos atores sociais como indígenas, bandeirantes, religiosos, pecuaristas, mineradores, escravos africanos, extrativistas, agricultores, entre outros, que deixaram suas marcas e contribuíram para a formação da memória e da identidade cultural tocaninense. De acordo com o enunciado acima, é CORRETO afirmar que:

- (A) embora distintos eventos tenham contribuído com a formação histórica do estado do Tocantins, somente os atuais processos de implantação de meios de transportes, como rodovias e ferrovias, deram significativo sentido à construção da territorialidade cultural tocaninense.
- (B) a territorialidade cultural é constituída apenas pelo aprimoramento dos sistemas de transportes e comunicações modernos, o que nos permite desprezar os atores sociais e seus contextos históricos nesta análise.
- (C) o universo cultural tocaninense foi constituído pela influência de distintos atores sociais que, à sua maneira, e de acordo com o contexto histórico em que viveram, contribuíram com a formação e delimitação do território tocaninense.
- (D) os momentos históricos e seus respectivos atores sociais não têm importância no processo de construção da territorialidade cultural tocaninense haja vista que, tanto memória quanto identidade não são consideradas nesta análise.

QUESTÃO 32

De acordo com o IBGE, a microrregião de Araguaína é composta por dezessete municípios, possuindo uma área total de pouco mais de 26.000 km² e com uma população estimada em 260.490 habitantes, segundo o IBGE (2006). Diante do exposto é CORRETO afirmar que:

- (A) os municípios de Aragominas, Araguaína, Arapoema, Babaçulândia, Bandeirantes do Tocantins, Carmolândia, Colinas do Tocantins, Filadélfia, fazem parte da microrregião de Araguaína.
- (B) não existe microrregião de Araguaína. Na verdade Araguaína é considerada uma mesorregião pela sua influência exercida sobre todo o norte tocaninense.
- (C) a microrregião de Araguaína é constituída por apenas cinco municípios, quais sejam: Carmolândia, Santa Fé do Araguaia, Nova Olinda, Wanderlândia e Muricilândia.
- (D) a microrregião de Araguaína é composta de alguns municípios que se localizam no estado do Pará, a exemplo de São Geraldo do Araguaia e Conceição do Araguaia.

QUESTÃO 33

Sabe-se que o sistema hidrográfico do estado do Tocantins é composto por duas grandes bacias hidrográficas que percorrem todo o território estadual. De acordo com o enunciado é CORRETO afirmar que:

- (A) a bacia composta pelo rio Araguaia é a que apresenta maior importância pois representa mais de 75% do total do estado.
- (B) a bacia do rio Tocantins abrange uma área total de 173.429,9 km², representando cerca de 62,3% do total do estado, fato este que se justifica porque o rio Tocantins sempre corre pelo lado oeste do estado.
- (C) o rio Araguaia deságua no Tocantins, na região do Bico do Papagaio. O Tocantins por sua vez segue seu rumo até desembocar no Oceano Pacífico nas proximidades do Amapá.
- (D) o rio Araguaia após percorrer toda a porção ocidental do estado encontra-se com o rio Tocantins na região do Bico do Papagaio.

QUESTÃO 34

A construção da rodovia Belém-Brasília (BR-153) é resultado das políticas de integração territorial implementadas pelo então presidente Juscelino Kubitschek. Tal rodovia influenciou o crescimento econômico de várias

idades do estado do Tocantins. Sobre esta questão é CORRETO afirmar que:

- (A) a cidade de Palmas beneficiou-se, em larga medida, com a construção da Belém-Brasília, uma vez que registrou-se um aumento significativo das atividades econômicas bem como de sua população.
- (B) na verdade, apenas as cidades que margeavam os rios Araguaia e Tocantins, foram as maiores beneficiadas após a construção da BR-153.
- (C) a cidade de Araguaína apresentou um forte incremento em seu processo de urbanização após a construção da rodovia Belém-Brasília.
- (D) pode-se dizer também, que Tocantinópolis registrou um aumento significativo de suas atividades econômicas, bem como de seus índices populacionais após a implantação da BR-153.

QUESTÃO 35

De acordo com a divisão político-administrativa o estado do Tocantins possui 139 municípios em uma área aproximada de 277.620 km², estendendo-se no sentido norte-sul com 899,5km e de leste a oeste com uma extensão total de 515,4 km. De acordo com o exposto é CORRETO afirmar que:

- (A) os estados da Bahia, Maranhão e Piauí fazem divisa com o Tocantins em sua porção centro-ocidental.
- (B) os estados de Goiás, Pará, Mato Grosso e Maranhão fazem divisa com o Tocantins na porção leste.
- (C) o território tocaninense apresenta maiores extensões no sentido norte-sul, principalmente na área que faz divisa com a Bahia.
- (D) os estados do Maranhão, Pará, Mato Grosso, Goiás, Piauí e Bahia fazem divisa com o Tocantins.

QUESTÃO 36

A descoberta do ouro durante o domínio português causou uma série de transformações no processo de ocupação do Brasil, pois várias cidades surgiram para além dos limites da Zona Costeira Atlântica. O antigo norte de Goiás, hoje Tocantins, é também testemunha da corrida por esse metal precioso, pois para cá vieram muitos aventureiros portugueses tentar a sorte. Tomando como base o enunciado é CORRETO afirmar que:

- (A) as cidades tocaninenses que mais se destacaram durante o ciclo do ouro são aquelas situadas no extremo norte do estado, a exemplo de Buriti do Tocantins, Esperantina e São Sebastião do Tocantins.

- (B) as cidades de Natividade, Arraias, Almas, Chapada de Natividade, Monte do Carmo e Palmeiras surgiram na época da descoberta do ouro no século XVIII.
- (C) as cidades de Natividade, Arraias, Almas, Chapada de Natividade, Monte do Carmo, Dianópolis e Porto Nacional surgiram na época da descoberta do ouro.
- (D) o ciclo do ouro só teve maiores repercussões e só propiciou o surgimento de cidades apenas nas Minas Gerais.

QUESTÃO 37

Do ponto de vista populacional sabe-se que o estado do Tocantins possui uma baixa densidade demográfica, assim como toda a região norte do Brasil. Esse fato pode também ser explicado pelas características do processo de ocupação do território brasileiro que se iniciou às margens do Oceano Atlântico. De acordo com o texto e levando-se em consideração a estimativa da população do IBGE (2009) é CORRETO afirmar que:

- (A) Chapada de Areia é o município que apresenta a menor população de todo o estado do Tocantins.
- (B) o município de Oliveira de Fátima é o que apresenta a menor população de todo o estado do Tocantins.
- (C) Palmas, Araguaína, Dianópolis, Gurupi, Colinas do Tocantins, Paraíso do Tocantins são, em ordem decrescente, as mais populosas do Tocantins.
- (D) a população do Tocantins, de acordo com a estimativa do IBGE (2009) já superou os dois milhões de habitantes.

QUESTÃO 38

A Lei Orgânica do município de Araguaína em seu capítulo III (dos Distritos) e Seção I, que tratam da divisão administrativa do município estabelece em seus Artigos 139, 140, 141, 142 e 143, as condições necessárias para a criação dos Distritos. Tomando por base o enunciado é CORRETO afirmar que:

- (A) a criação dos Distritos far-se-á apenas por decisão do Chefe do Executivo Municipal e pela Mesa Diretora da Câmara;
- (B) a criação do Distrito poderá efetuar-se mediante fusão de dois ou mais Distritos que serão suprimidos, sendo dispensada, nesta hipótese, a verificação dos requisitos do Artigo 140 da Lei Orgânica Municipal;

- (C) a criação do Distrito poderá efetuar-se mediante fusão de dois ou mais Distritos que serão suprimidos, não sendo dispensada, nesta hipótese, a verificação dos requisitos do Artigo 140 da Lei Orgânica Municipal;
- (D) apenas os bairros ou setores poderão ser transformados em Distritos conforme rege o Artigo 139 da Lei Orgânica Municipal.

QUESTÃO 39

Conforme a Lei Orgânica do Município de Araguaína, no seu artigo 140, a alternativa CORRETA que evidencia os requisitos básicos para a criação dos Distritos é:

- (A) População, eleitorado e arrecadação não inferiores à quinta parte exigida para a criação de Município; II – Existência na povoação-sede, de pelo menos cinquenta moradias, escola pública, posto de saúde e posto policial.
- (B) População, eleitorado e arrecadação não inferiores à terça parte exigida para a criação de Município; II – Existência na povoação-sede, de pelo menos cinquenta moradias, escola pública, posto de saúde e posto policial.
- (C) População, eleitorado e arrecadação inferior à quinta parte exigida para a criação de Município; II – Existência na povoação-sede, de pelo menos cem moradias, escola pública, posto de saúde e posto policial.
- (D) População, eleitorado e arrecadação inferior à quinta parte exigida para a criação de Município; II – Existência na povoação-sede, de escola pública, posto de saúde e posto policial.

QUESTÃO 40

A Seção V da Lei Orgânica do Município de Araguaína que trata da Política Urbana estabelece no Artigo 196 que, para assegurar as funções sociais do Município e da propriedade, o Poder Público usará, principalmente, alguns instrumentos. De acordo com o exposto marque a alternativa CORRETA que elucida tais instrumentos.

- (A) I. Imposto progressivo no tempo sobre imóvel; II. Desapropriação por interesse social ou utilidade pública; III. Discriminação de terras públicas destinadas prioritariamente a assentamentos de pessoas de baixa renda; IV. Inventários, registros, vigilância e tombamento de imóveis; V. contribuição de melhoria; VI. Taxação dos lotes vazios urbanos.
- (B) I. Imposto progressivo no tempo sobre imóvel; II. Desapropriação por interesse social ou utilidade pública; III. Discriminação de terras públicas destinadas prioritariamente a assentamentos de pessoas de baixa

renda; IV. Inventários, registros, vigilância e tombamento de imóveis; V. contribuição de melhoria e outras benfeitorias.

- (C) I. Imposto progressivo para imóveis de alto padrão; II. Desapropriação por interesse social ou utilidade pública; III. Discriminação de terras públicas destinadas prioritariamente a assentamentos de pessoas de baixa renda; IV. Inventários, registros, vigilância e tombamento de imóveis; V. contribuição de melhoria; VI. Taxação dos lotes vazios urbanos.
- (D) I. Programa de moradia para as faixas inferiores de renda; II. Desapropriação por interesse social ou utilidade pública; III. Discriminação de terras públicas destinadas prioritariamente a assentamentos de pessoas de baixa renda; IV. Inventários, registros, vigilância e tombamento de imóveis; V. contribuição de melhoria; VI. Taxação dos lotes vazios urbanos.