

PROVA DE LÍNGUA PORTUGUESA

Leia o texto abaixo para responder à questão 01:

A angústia e o desespero que se pintavam nas feições de Jorge tocavam quase à alucinação e ao desvario; às vezes, era como uma atonia que lhe paralisava a circulação, outras, tinha ímpetos de fechar os olhos e atirar a matéria contra a matéria para ver se neste embate a dor física, a anulação do espírito, moderavam o profundo sofrimento que torturava sua alma.

Por fim, uma idéia sinistra passou-lhe pela mente e agarrou-se a ela como um náufrago a um destroço de seu navio; o desespero tem dessas coincidências; um pensamento louco é, às vezes, um bálsamo controlador, que, se não cura, adormece o padecimento.

José de Alencar, **A viuvinha**, cap. IV.

QUESTÃO 01

Leia os excertos a seguir, retirados do texto acima:

- I. “A angústia e o desespero que **se** pintavam ...”
- II. “... e atirar a matéria contra a matéria para ver **se** neste embate...”
- III “... é, às vezes, um bálsamo controlador, que, **se** não cura ...”

Indique a alternativa em que o **se** exerce a função de pronome apassivador:

- (A) I, II, III estão corretas.
- (B) I e III estão corretas.
- (C) I e II estão erradas.
- (D) apenas I está correta.
- (E) apenas III está correta.

Leia o texto abaixo e responda às questões 02 e 03:

- Jorge, a confiança que tenho na sua lealdade é tal que **entreguei** minha filha antes de pertencer-lhe. Lembre-se de que se o senhor **mudasse** de idéia, embora ela **esteja** pura como um anjo, o mundo a **julgaria** uma moça iludida. Espero que respeite em sua noiva a sua futura mulher. E o moço reconhecia quanto D. Maria tinha razão; **lembrava-se**, no tempo de sua vida brilhante, que comentários não faziam seus amigos sobre um casamento rompido, às vezes, por motivo o mais simples.

José de Alencar, **A viuvinha**, cap. V.

QUESTÃO 02

Os tempos verbais destacados no texto correspondem respectivamente a:

- (A) pretérito perfeito do indicativo, pretérito imperfeito do subjuntivo, presente do subjuntivo, futuro do pretérito do indicativo, pretérito imperfeito do indicativo.
- (B) pretérito perfeito do indicativo, pretérito imperfeito do indicativo, presente do subjuntivo, pretérito imperfeito do indicativo, pretérito imperfeito do indicativo.
- (C) pretérito perfeito do indicativo, pretérito imperfeito do subjuntivo, presente do subjuntivo, pretérito imperfeito do indicativo, pretérito perfeito do indicativo.
- (D) pretérito perfeito do indicativo, pretérito imperfeito do subjuntivo, presente do indicativo, pretérito imperfeito do indicativo, pretérito imperfeito do indicativo.
- (E) pretérito perfeito do indicativo, pretérito perfeito do subjuntivo, presente do subjuntivo, pretérito imperfeito do indicativo, pretérito imperfeito do indicativo.

QUESTÃO 03

Na frase, retirada do texto acima, “E o moço reconhecia **quanto** D. Maria tinha razão”, a palavra **quanto** nesse enunciado pertence à classe gramatical:

- (A) dos substantivos.
- (B) dos pronomes.
- (C) dos advérbios.
- (D) das conjunções.
- (E) das preposições.

Leia o texto a seguir para responder às questões 04 e 05:

Entretanto, o caixeiro ignorava que aquela mão que agora trocava uma moeda de cobre para dar uma esmola, já atirara loucamente pela janela montões de ouro e de bilhetes do tesouro. O pobre não sabia que essa ridícula quantia que recebia era uma parte do jantar daquele que a dava e que nesse dia talvez o mendigo tivesse melhor refeição do que o homem a quem pedira a esmola.

José de Alencar, **A viuvinha**, cap. XII.

QUESTÃO 04

No texto acima a palavra **entretanto** pertence à classe gramatical:

- (A) dos advérbios.
- (B) dos adjetivos.
- (C) dos pronomes.
- (D) das conjunções.
- (E) das preposições.

QUESTÃO 05

Indique a alternativa em que todas as palavras, conforme se encontram no texto, são substantivos:

- (A) caixeiro, moeda, sabia, esmola, loucamente, parte, jantar, dia, tocava.
- (B) caixeiro, pedira, moeda, cobre, bilhetes, parte, jantar, dia, janela.
- (C) caixeiro, tesouro, moeda, cobre, loucamente, parte, jantar, dia, janela.
- (D) caixeiro, moeda, mão, esmola, mendigo, parte, jantar, dia, janela.
- (E) caixeiro, moeda, ridícula, esmola, melhor, parte, jantar, dia, janela.

QUESTÃO 06

O seguinte trecho de *O Primo Basílio*, de Eça Queiroz, foi alterado quanto à pontuação. Assinale a alternativa em que a pontuação está correta:

- (A) _ Mas o galego, continuava ela muito excitada; diz que, para ir à terra, falar à mulher, levar o retrato do Conselheiro, é necessário, o retrato dele, o meu, é necessário o meu; ir falar, voltar _ quer sete moedas!...
- (B) _ Mas o galego – continuava ela muito excitada – diz que para ir à terra, falar à mulher, levar o retrato do Conselheiro, é necessário o retrato dele, o meu; é necessário o meu; ir falar, voltar _ quer sete moedas!...
- (C) _ Mas, o galego, continuava ela muito excitada, diz que para ir à terra falar à mulher levar o retrato do Conselheiro, é necessário o retrato dele: o meu é necessário o meu; ir falar, voltar; _ quer sete moedas!...

- (D) _ Mas o galego, continuava ela muito excitada – diz, que para ir à terra, falar à mulher levar o retrato do Conselheiro, é necessário, o retrato dele, o meu, é necessário o meu; ir falar voltar _ quer sete moedas!...
- (E) _ Mas o galego – continuava ela muito excitada – diz que, para ir à terra, falar à mulher, levar o retrato do Conselheiro, é necessário: o retrato dele, o meu, é necessário o meu; ir falar - voltar; _ quer, sete moedas!...

QUESTÃO 07

Indique a alternativa em que há erro de concordância verbal:

- (A) Os Estados Unidos são um grande país.
 (B) Basta duas laranjas para fazermos um bom suco.
 (C) O céu, a terra, o mar, os ventos, tudo é obra do criador.
 (D) Faz invernos rigorosos no Sul do Brasil.
 (E) Deu duas horas o relógio da sala.

QUESTÃO 08

Assinale a alternativa correta segundo as normas de concordância:

- (A) Todos esses meninos devem estar muito cansados de esperar.
 (B) Todas essas pessoas deve estar te esperando desde ontem à tarde.
 (C) Todos que aqui estão devem estarem com muita fome de justiça.
 (D) Muitos alunos que viajaram no feriado já deve estar voltando.
 (E) Nem todos que aqui estiveram deve voltar amanhã.

QUESTÃO 09

Complete os espaços vazios do texto com as palavras de uma das alternativas abaixo:

A conjunção é a palavra que une _____ ou termos de uma oração que possuem _____ função. Essa relação estabelecida _____ as orações pode ser _____, quando se trata de orações _____; ou dependente, quando se trata de _____.

- (A) orações – outra – entre – dependente – subordinadas – subordinadas.
 (B) orações – diferente – com – independente – coordenadas - subordinação.
 (C) orações – mesma – entre – independente – coordenadas - subordinadas.
 (D) orações – mesma – entre – dependente – coordenadas - subordinação.
 (E) orações – diferente – entre – dependente – coordenadas - subordinadas.

Leia o texto a seguir e responda à questão 10:

Uns a meio queimados **se** atiravam à água, outros com os membros esfolados e a pele a despegar-**se**-lhes do corpo nadavam ainda entre dores horríveis e morriam torcendo-**se** em maldições.

A uma légua da cena do combate havia uma praia bravia, cortada de rochedos. Aí **se** salvaram os piratas que puderam fugir.

Álvares de Azevedo, **Noite na taverna**.

QUESTÃO 10

A palavra **se** em todos os casos em destaque no texto acima exerce a função de:

- (A) palavra expletiva ou de realce.
 (B) objeto indireto.
 (C) objeto direto.
 (D) índice de indeterminação do sujeito.
 (E) pronome apassivador.

QUESTÃO 11

Assinale a alternativa em que uso da crase está incorreto:

- (A) Se não foram à festa, foram à igreja, com certeza.
 (B) Às vezes, chegamos à situações as quais nunca deveríamos chegar.
 (C) A comida que se serve aqui é igual à do nordeste.
 (D) Quando disse isso referia-se àquelas meninas com as quais conversava.
 (E) Nunca gostou de ir a baile à fantasia, muito menos vestir-se à Momo.

QUESTÃO 12

Assinale a alternativa em que todas as palavras estão escritas corretamente:

- (A) beleza, lindesa, japonesa, duquesa, empresa, sutilesa.
 (B) paralização, idealização, descer, crescer, cabelereiro.
 (C) pesquisar, analisar, civilisar, irisar, batizar, infernizar.
 (D) psicólogo, piscoso, esplendor, externo, extremo, bagagem.
 (E) estupro, fortuíto, gratuito, necropisia, recém, íterim.

Leia o texto a seguir para responder às questões de 13 a 17:

A casa-grande do Santa Fé enchia-se da valsa da moça. A mãe deixava a cozinha, os negros a acompanhavam para ouvir d. Amélia tocando no seu enorme piano, de som tão bonito. O capitão fechava os olhos, babava-se na harmonia terna que a filha arrancava no teclado. Era um primor. A mulher, cansada, de pele encardida do sol, de mãos grossas dos trabalhos da cozinha, de debulhar milho para negro, de cortar bacalhau, iluminava-se de alegria. Tinha mais uma filha nos estudos, Olívia. Todos em sua casa não deviam ser como ela fora, só do trabalho grosseiro, da vida como negro cativo. O marido, espichado no marquesão, babava-se com a filha prendada. Não queria para Amélia um marido assim como Tomás, homem que só tinha corpo e alma para o trabalho. Homem devia ser mais alguma coisa para melhor do que era Tomás. [...] Nas mãos do capitão Tomás tudo rendia, tudo dava dinheiro. É verdade que tinha uma mulher que era a metade do seu esforço. Cuidava ela dos negros, cosia o algodãozinho para vesti-los, fazia-lhes o angu, assava-lhes a carne. A sua escravatura era de gente boa. Trouxera do Ingá negros de bom calibre.

Nunca comprara peça barata, resto de gente que só lhe desse trabalho. Tudo que o capitão Tomás pretendia fazer no Santa Fé saiu como ele bem quis. Mas a filha que tocava piano como uma moça de praça, que lia livros bonitos, que lhe custava tanto dinheiro nos estudos não se casava. [...] Aquela gente do Taipu tratava mulher como bicho. Amélia era uma seda, uma flor de jardim. Não. Para vê-la casada com um daqueles animais, ele preferia que ficasse toda vida com ele. Tinha dinheiro de ouro que lhe daria para comprar um engenho para a filha. Um engenho de porteira fechada. Queria era que aparecesse um homem que fosse branco, de bons modos, capaz de fazê-la feliz, de tratá-la como ela merecia.

José Lins do Rego, **Fogo Morto**, Cap. I, 2ª. Parte.

QUESTÃO 13

Em relação ao trabalho, a interpretação do texto acima permite afirmar que:

- I. O tipo de educação recebida por uma mulher não era para prepará-la para o mercado de trabalho, mas para um bom casamento.
- II. Por mais que trabalhe, a mulher tem pouco ou nenhum reconhecimento pelo seu esforço.
- III. O trabalho feminino tem o justo reconhecimento social.
- IV. A condição da mulher aproxima-se em muito da do escravo.

Assinale a alternativa CORRETA:

- (A) todas as alternativas estão incorretas.
- (B) todas as alternativas estão corretas.
- (C) apenas I está incorreta.
- (D) apenas II está incorreta.
- (E) apenas III está incorreta.

QUESTÃO 14

Em relação ao perfil do marido ideal para a filha, pode-se concluir que:

- I. O capitão Tomás deseja para marido da filha qualquer homem do Taipu.
- II. A mãe deseja que o futuro marido de sua filha seja apenas um homem com corpo e alma para o trabalho.
- III. Tanto o pai quanto a mãe exigem apenas que o marido da filha seja um homem branco.
- IV. O pai prefere que a filha fique solteirona a que se case com um homem grosseiro.

Assinale a alternativa CORRETA:

- (A) I e II estão corretas.
- (B) II e III estão corretas.
- (C) I e IV estão incorretas.
- (D) apenas II está incorreta.
- (E) apenas IV está correta.

QUESTÃO 15

Ao desejar para a filha um marido que olhe além do trabalho, a mãe deixa transparecer:

- I. Que é infeliz no casamento por não ter um marido que toque piano.
- II. Que não se sente plenamente satisfeita com o tratamento que recebe do marido e porque ele não sabe tocar piano.
- III. Que jamais se sente negligenciada pelo marido.
- IV. Que não acredita que o casamento pode ser algo mais prazeroso do que o que vivencia em sua vida conjugal.

Assinale a alternativa CORRETA:

- (A) apenas a I está correta.
- (B) apenas a II está correta.
- (C) as alternativas II e IV estão corretas.
- (D) as alternativas I e III estão corretas.
- (E) todas as alternativas estão incorretas.

QUESTÃO 16

Em relação à predicação verbal, temos na frase "O capitão fechava os olhos...", um caso de verbo:

- (A) intransitivo.
- (B) transitivo direto.
- (C) transitivo indireto.
- (D) transitivo direto e indireto.
- (E) de ligação.

QUESTÃO 17

Qual é o tempo verbal que aparece na frase: "Trouxera do Ingá negros de bom calibre".

- (A) Pretérito mais-que-perfeito do modo indicativo
- (B) Pretérito mais-que-perfeito composto do modo indicativo
- (C) Pretérito mais-que-perfeito do modo subjuntivo
- (D) Pretérito imperfeito do modo indicativo
- (E) Pretérito imperfeito do modo subjuntivo

Leia o poema abaixo para responder às questões 18 e 19:

Quando ontem adormeci
Na noite de São João
Havia alegria e rumor
Estrondos de bombas luzes de Bengala
Vozes, cantigas e risos
Ao pé das fogueiras acesas.

No meio da noite despertei
Não ouvi mais vozes nem risos
Apenas balões
Passavam, errantes

Silenciosamente
Apenas de vez em quando
O ruído de um bonde
Cortava o silêncio
Como um túnel.
Onde estavam os que há pouco
Dançavam
Cantavam
E riam
Ao pé das fogueiras acesas?

_ Estavam todos dormindo
Estavam todos deitados
Dormindo
Profundamente.

Quanto eu tinha seis anos
Não pude ver o fim da festa de São João
Porque adormeci

Hoje não ouço mais as vozes daquele tempo
Minha avó
Meu avô
Totônio Rodrigues
Tomásia
Rosa
Onde estão todos eles?

_ Estão todos dormindo
_ Estão todos deitados
Dormindo
Profundamente.

Manuel Bandeira, **Profundamente**.

QUESTÃO 18

No poema acima, a temática principal do poeta gira em torno dos seguintes assuntos:

- I. A saudade da infância.
- II. A passagem do tempo.
- III. A morte.
- IV. As festas juninas.
- V. O barulho de um bonde.

Assinale a alternativa CORRETA:

- (A) somente as alternativas I, II e III estão corretas.
- (B) somente as alternativas I, III e V estão corretas.
- (C) apenas I está incorreta.
- (D) apenas III está incorreta.
- (E) apenas V está incorreta.

QUESTÃO 19

Através da linguagem poética, o poeta rompe fronteiras entre:

- I. A vida e a morte.
- II. A infância e a vida adulta.
- III. Entre o tempo e o espaço.
- IV. Entre o sono e a vida desperta.
- V. Entre a alegria e a tristeza.

Assinale a alternativa correta:


- (A) somente I, II e III estão corretas.
- (B) somente II, III, IV e V estão corretas.
- (C) somente III e V estão corretas.
- (D) somente I, II, IV e V estão corretas.
- (E) todas as alternativas estão corretas.

Leia o poema abaixo para responder às questões 20 e 21:

Leia o texto de Oswald de Andrade que vem a seguir:


INFÂNCIA

O camisolão
O jarro
O passarinho
O oceano
A visita na casa que a gente sentava no sofá



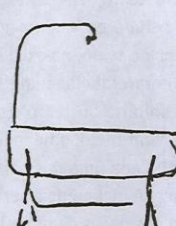
ADOLESCÊNCIA

Aquele amor
Nem me fale



MATURIDADE

O Sr. e Srª Amadeu
Participam a V. Exª
O feliz nascimento
De sua filha
Gilberta



Oswald de Andrade, *Primeiro Caderno do Aluno de Poesias Oswald de Andrade*.

QUESTÃO 20

Em relação ao poema acima, pode-se afirmar que:

- I. Neste poema, Oswald de Andrade retrata a própria vida.
- II. Apesar da ausência de nexos sintáticos, o poema apresenta um texto coerente.

- III. Entre os significados possíveis, o poema apresenta relances de cada uma das três grandes fases da vida: a infância, a adolescência e a maturidade.

Assinale a alternativa CORRETA:

- (A) apenas I e II estão corretas.
- (B) apenas I e III estão corretas.
- (C) apenas II e III estão corretas.
- (D) I, II e III estão corretas.
- (E) nenhuma das alternativas está correta.

QUESTÃO 21

Quanto às fases apresentadas no poema, pode-se afirmar que:

- I. A primeira é marcada pela descoberta do mundo, por brincadeiras e por lembranças que deixaram marcas.
- II. O que caracteriza a segunda fase é a lembrança de experiências amorosas.
- III. Na terceira fase, a linguagem denota a informalidade e a falta de responsabilidades.
- IV. Dentre todas as fases, a terceira é a em que o poeta aparenta ser mais misterioso.

Assinale a alternativa CORRETA:

- (A) I e II estão corretas.
- (B) II e III estão corretas.
- (C) I, II e IV estão corretas.
- (D) apenas III está correta.
- (E) apenas IV está correta.

QUESTÃO 22

Em relação às características da linguagem utilizada na redação oficial, assinale a alternativa incorreta:

- (A) Redigida segundo a norma culta.
- (B) Clara e concisa.
- (C) Objetividade e coerência.
- (D) Informalidade.
- (E) Impessoalidade.

QUESTÃO 23

Em relação à concordância verbal dos pronomes de tratamento empregados em redações oficiais, pode-se afirmar que se referem:

- (A) à segunda pessoa e, portanto, apresentam o verbo, também, sempre na segunda pessoa.
- (B) à primeira pessoa e, portanto, apresentam o verbo, também, sempre na primeira pessoa.
- (C) à terceira pessoa e, portanto, apresentam o verbo, também, sempre na terceira pessoa.
- (D) à segunda pessoa, entretanto, apresentam o verbo sempre na terceira pessoa.
- (E) à primeira pessoa, entretanto, apresentam o verbo sempre na segunda pessoa.

QUESTÃO 24

O vocativo a ser empregado em correspondências oficiais dirigidas ao presidente da República e do Congresso Nacional:

- (A) Vossa Excelência.

- (B) Excelentíssimo Senhor.
- (C) Digníssimo Senhor
- (D) Caríssimo Senhor.
- (E) Eminentíssimo Senhor.

QUESTÃO 25

Seguem o padrão oficial as seguintes correspondências oficiais:

- I. Portaria.
- II. Ofício.
- III. Memorando.
- IV. Processo e despacho.

Assinale a alternativa CORRETA:

- (A) apenas II e III estão corretas.
- (B) apenas III e IV estão corretas.
- (C) apenas I, III e IV estão corretas.
- (D) apenas II, III e IV estão corretas.
- (E) somente III está correta.

PROVA DE MATEMÁTICA

QUESTÃO 26

O estoque de calças e camisas de uma loja contém um total de 2000 peças. Em uma promoção feita pela loja foram vendidas 600 peças deste estoque, sendo $\frac{3}{4}$ do total de

calças e $\frac{1}{4}$ do total de camisas. O número total de camisas que foram vendidas nesta promoção foi:

- (A) 200 camisas
- (B) 150 camisas
- (C) 450 camisas
- (D) 400 camisas
- (E) 50 camisas

QUESTÃO 27

Considere o sistema de equações lineares abaixo, nas variáveis x , y e z onde k é um número real fixo,

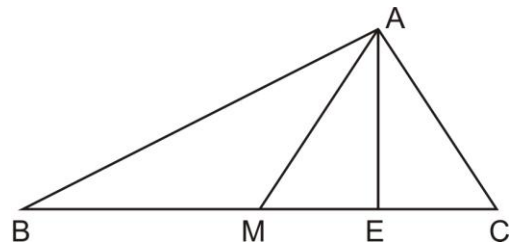
$$\begin{cases} 2x + z = 2 \\ y - 2z = 1 \\ x + kz = 3 \end{cases}$$

O valor de k para que o sistema não possua solução é:

- (A) $\frac{2}{5}$
- (B) $\frac{1}{2}$
- (C) $\frac{3}{7}$
- (D) $\frac{5}{6}$
- (E) $\frac{7}{9}$

QUESTÃO 28

Considere o triângulo ABC abaixo, tal que o segmento AE é perpendicular ao segmento BC e os segmentos BM e MC têm o mesmo comprimento.

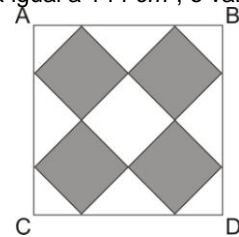


Se a área do triângulo ABM é 4 unidades de área, podemos afirmar que a área do triângulo AMC é:

- (A) 12 unidades de área
- (B) 6 unidades de área
- (C) 2 unidades de área
- (D) 8 unidades de área
- (E) 4 unidades de área

QUESTÃO 29

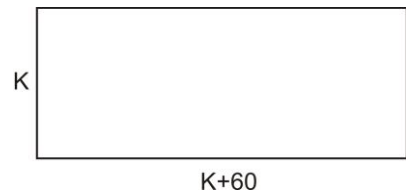
As figuras no interior do quadrado $ABCD$ abaixo são quadrados de lado r cm. Sabendo-se que o quadrado $ABCD$ possui área igual a 144 cm^2 , o valor de r é:



- (A) $3\sqrt{2}$ cm
- (B) $2\sqrt{3}$ cm
- (C) $6\sqrt{3}$ cm
- (D) $6\sqrt{2}$ cm
- (E) $\sqrt{2}$ cm

QUESTÃO 30

João possui um lote na forma de um quadrado, cujo lado mede K metros, Maria possui um outro lote, na forma retangular, cujas dimensões são dadas conforme a figura abaixo:



O lote do João foi avaliado em R\$ 112.500,00. Qual o valor do metro quadrado do lote do João, sabendo-se que a área do seu lote é $\frac{1}{3}$ da área do lote da Maria ?

- (A) R\$ 100,00
- (B) R\$ 110,00
- (C) R\$ 95,00
- (D) R\$ 125,00
- (E) R\$ 112,50

QUESTÃO 31

Considere o segmento de reta orientado AB em um plano cartesiano, com origem no ponto A(1,2) e extremidade no ponto B(-1,4). Se fixarmos o ponto A e girarmos o segmento AB neste plano cartesiano de um ângulo reto no sentido horário, obtemos o ponto C. O semiperímetro do triângulo de vértices A, B e C é:

- (A) $1 + \sqrt{2}$ (D) $2 + 2\sqrt{2}$
 (B) $4\sqrt{2}$ (E) $2\sqrt{2}$
 (C) $4 + 4\sqrt{2}$

QUESTÃO 32

Considere dois números reais cuja diferença entre eles é igual a 2. Podemos afirmar que o menor valor que o produto entre estes dois números pode assumir é:

- (A) 2 (B) -1 (C) -2 (D) -3 (E) 0

QUESTÃO 33

Considere a inequação abaixo:

$$(-x^2 - 4)(2x^2 + 4x - 6) > 0$$

Se \mathbb{R} o conjunto dos números reais, o conjunto solução desta inequação em \mathbb{R} é dado por:

- (A) $x \in \mathbb{R} / -3 < x < 1$
 (B) $x \in \mathbb{R} / -3 \leq x \leq 1$
 (C) $x \in \mathbb{R} / x < -3$ ou $x > 1$
 (D) $x \in \mathbb{R} / -6 < x < 2$
 (E) $x \in \mathbb{R} / -6 \leq x \leq 2$

QUESTÃO 34

Carmélia deseja comprar uma geladeira para presentear a sua mãe Marilda. O preço da geladeira, à vista, é de R\$ 1.100,00. A loja ofereceu uma outra forma de pagamento, que é parcelar em duas prestações de R\$ 600,00, uma prestação no ato da compra e a outra para 30 dias. Carmélia escolheu esta opção de parcelamento. Sabendo que a taxa de juros só deve ser calculada sobre o saldo devedor do valor à vista da mercadoria, e não sobre o valor total, à vista, da mercadoria, qual a taxa de juros mensal embutida nesta forma de pagamento?

- (A) 6,9% (D) 10%
 (B) 15% (E) 20%
 (C) 8,3%

QUESTÃO 35

Considere \mathbb{Z} o conjunto dos números inteiros e P o conjunto dado por:

$$P = \left\{ k \in \mathbb{Z} \text{ tal que } \frac{2k + 10}{2k + 7} \in \mathbb{Z} \right\}$$

O valor da soma de todos os elementos do conjunto P é:

- (A) -7 (B) -4 (C) -14 (D) 0 (E) 1

PROVA DE CONHECIMENTOS REGIONAIS E ATUALIDADES**QUESTÃO 36**

Assinale a alternativa correta que identifica todos os estados que fazem divisa com o Tocantins

- (A) Pará, Maranhão, Piauí, Mato Grosso do Sul, Bahia e Goiás
 (B) Maranhão, Bahia, Mato Grosso, Goiás e Ceará
 (C) Maranhão, Bahia, Mato Grosso do Sul, Goiás e Pará
 (D) Piauí, Goiás, Bahia, Maranhão, Pará e Mato Grosso
 (E) Maranhão, Bahia, São Paulo e Goiás.

QUESTÃO 37

A cidade foi fundada por volta de 1750, sendo uma das mais antigas do estado do Tocantins. Seu primeiro aldeamento recebeu o nome de "São Francisco Xavier do Duro". Em 26 de agosto de 1884 a Vila de São José do Duro foi elevada a categoria de cidade pela Lei Provincial nº 723, de 26/08/1884. O texto acima refere-se à cidade de:

- (A) Chapada de Natividade
 (B) Natividade
 (C) Porto Nacional
 (D) Dianópolis
 (E) Monte do Carmo

QUESTÃO 38

Segundo o IBGE (Instituto Brasileiro de Geografia e Estatística), o município de Araguaína em 1 de abril de 2007, contava com uma população residente de:

- (A) 115.759 habitantes
 (B) 200.280 habitantes
 (C) 80.00 habitantes
 (D) 504.200 habitantes
 (E) 305.000 habitantes

QUESTÃO 39

Parque Nacional que encontra-se localizado nas divisas do estado do Tocantins com o Maranhão, Bahia e Piauí. De acordo com o enunciado é CORRETO afirmar que.

- (A) trata-se do Parque Nacional das Nascentes do rio Parnaíba;
- (B) o texto refere-se à APA do Jalapão
- (C) o enunciado remete-se à APA do Cantão;
- (D) o enunciado identifica claramente a APA dos meandros da Bacia do São Francisco na divisa com o estado do Tocantins.
- (E) trata-se da APA do Cana Brava.

QUESTÃO 40

A formação de mercados mundiais é uma tendência do modo de produção capitalista onde os países membros negociam entre si de forma aberta sem muitos obstáculos a entrada ou saída de produtos, garantindo assim, a livre circulação de mercadorias. Graças a essa forma de organização dos mercados mundiais algumas economias puderam se desenvolver, inclusive fazendo frente a grandes potências. Sobre alguns mercados mundiais é CORRETO afirmar que:

- (A) o MERCOSUL é um mercado mundial que abrange alguns países da América do Sul, a exemplo de Brasil, Argentina, Chile, Colômbia, Paraguai, Venezuela, Costa Rica e Uruguai.
- (B) o NAFTA é um exemplo de mercado mundial que funciona de forma mais avançada, pois permite não apenas a livre circulação de mercadorias e serviços, mas também de pessoas, apenas para seus países membros.
- (C) dentre os vários mercados mundiais existentes, pode-se dizer que a União Européia é o que mais avançou, pois em seus países membros, adotou-se uma moeda única para todas as transações econômicas. Além de permitir a livre circulação não apenas de mercadorias e serviços, mas também de pessoas.
- (D) o Japão comandando o Bloco comercial do Pacífico, apresentou, recentemente uma proposta inovadora em que todos os cidadãos dos países asiáticos possam circular livremente dentro do Bloco, sem qualquer objeção, no mesmo padrão dos europeus.
- (E) Nenhuma das alternativas está correta.

QUESTÃO 41

Ao longo dos mais de cinco séculos de formação o território brasileiro passou por várias mudanças até assumir a configuração atual. Um dos princípios utilizados pelos portugueses foi o do *uti possidetis*, garantindo o alargamento do território para além do que definia o Tratado de Tordesilhas. Sobre a geografia política do território brasileiro é CORRETO afirmar que:

- (A) o processo de formação ocorreu inicialmente pelos rios que cortam o interior do território, formando uma rede de exportação.
- (B) foram suficientes apenas 250 anos para que o território brasileiro assumisse a configuração atual, isto ocorreu graças à conquista do Acre, por volta do século XVIII.
- (C) a porção litorânea do território brasileiro foi conquistada inicialmente, por volta do século XVII, onde vamos observar a formação dos primeiros núcleos urbanos.

- (D) a expansão do território brasileiro na porção centro-ocidental ocorreu com a quebra do Tratado de Tordesilhas, quando Portugal utilizou o princípio do *uti possidetis*.
- (E) Nenhuma das alternativas está correta

QUESTÃO 42

No momento atual pode-se dizer que a economia brasileira conquista novamente lugar de destaque no contexto do comércio mundial, e, pela primeira vez na história da economia brasileira, passamos de devedor a credor do FMI (Fundo Monetário Internacional). Chegamos, portanto, à condição de um país de economia emergente. Segundo o enunciado é CORRETO afirmar que:

- (A) os países da "BRIC", é formado por China, Inglaterra, Rússia e Brasil.
- (B) a sigla "BRIC" reúne alguns países emergentes a exemplo de Canadá, Rússia, Índia e Brasil.
- (C) a economia brasileira, no momento atual, está em um patamar tão estável que já podemos afirmar que inexistente o processo de crescimento geograficamente desigual, no âmbito de seu território.
- (D) os países da "BRIC" reúne as economias emergentes composta por China, Índia, Rússia e Brasil.
- (E) Os países da "BRIC" reúne as economias de países já desenvolvidos compostos por Estados Unidos, Afeganistão, Brasil e África.

QUESTÃO 43

O modelo de ocupação do Brasil instituído pelos Portugueses concentrou-se inicialmente na faixa litorânea, isto pode explicar em parte a concentração da população que reside em cidades que margeiam o Atlântico, salvo algumas exceções. Segundo o enunciado é INCORRETO afirmar que:

- (A) no Brasil, o surgimento dos primeiros núcleos urbanos, ocorreu na faixa litorânea do Nordeste e Sudeste.
- (B) os primeiros núcleos urbanos que, verdadeiramente, podemos chamar de cidades, surgem apenas com o ciclo do ouro nas Minas Gerais, inclusive, esse fato pode ser constatado pela presença das igrejas mais antigas do país, em cidades mineiras, as quais foram construídas séculos antes daquelas existentes no litoral do Nordeste.
- (C) o ciclo do ouro em Minas Gerais provocou o processo de interiorização da população bem como possibilitou o surgimento de várias cidades.
- (D) A cidade do Rio de Janeiro já nasce cidade, sem ter que passar por estágios de evolução como povoado ou vila.
- (E) Todas as alternativas estão corretas.

QUESTÃO 44

A área do Estado do Tocantins, segundo o IBGE, corresponde a 277.620,914 km², o que representa a 3,26% da área total do Brasil. Esta dimensão faz com que o estado ocupe a 10ª posição em extensão territorial superado, em área do maior para o menor, apenas pelos estados do:

- (A) Amazonas, Pará, Mato Grosso, Minas Gerais, Bahia, Mato Grosso do sul, Sergipe, Rondonia e Rio Grande do Sul.

- (B) Pará, Amazonas, Mato Grosso, Minas Gerais, Bahia, Mato Grosso do sul, Goiás, Maranhão e Rio Grande do Sul.
- (C) Amazonas, Pará, Mato Grosso, Minas Gerais, Bahia, Mato Grosso do sul, Maranhão, Goiás, e Rio Grande do Sul.
- (D) Amazonas, Pará, Mato Grosso, Bahia, Minas Gerais, Mato Grosso do sul, Goiás, Maranhão e Rio Grande do Sul.
- (E) Amazonas, Pará, Mato Grosso, Minas Gerais, Bahia, Mato Grosso do sul, Goiás, Maranhão e Rio Grande do Sul.

QUESTÃO 45

“Localizado no oeste do Estado, numa área de aproximadamente 89 mil hectares, entre os municípios de Caseara e Piim, no extremo norte da Ilha do Bananal, uma região beneficiada com as águas dos rios Araguaia, Coco e Javaés” (Nascimento, 2007). O texto acima refere-se:

- (A) ao Parque Estadual de Cana Brava.
- (B) ao Parque Estadual do Jalapão.
- (C) ao Parque Estadual do Lajeado.
- (D) ao Lago de São Salvador.
- (E) ao Parque Estadual do Cantão.

QUESTÃO 46

De acordo com o censo agropecuário do Ministério da Agricultura de 2005 o Estado do Tocantins possui o 11º maior rebanho bovino do país, sendo superado, em tamanho de rebanho do maior para o menor, os estados de:

- (A) Mato Grosso, Mato Grosso do Sul, Minas Gerais, Goiás, Pará, Rio Grande do Sul, São Paulo, Rondônia, Bahia e Paraná.
- (B) Mato Grosso, Mato Grosso do Sul, Minas Gerais, Goiás, Pará, Rio Grande do Sul, São Paulo, Rondônia, Paraná e Bahia.
- (C) Mato Grosso, Mato Grosso do Sul, Goiás, Minas Gerais, Pará, Rio Grande do Sul, São Paulo, Rondônia, Bahia e Paraná.
- (D) Mato Grosso, Mato Grosso do Sul, Minas Gerais, Goiás, Pará, Rio Grande do Sul, Rondônia, São Paulo, Bahia e Paraná.
- (E) Nenhuma das alternativas está correta.

QUESTÃO 47

“Tem capacidade de gerar 452 megawatts, por meio de três turbinas. O Lago que se formou tem uma área de aproximadamente 294,10 km², atingindo os municípios de Peixe, Paranã, São Salvador e São Valério do Tocantins. As obras de construção da barragem começaram em junho de 2002, ficando paralisadas por um ano e foram retomadas em novembro de 2003, com a parceria entre Energias do Brasil, que detém 60% do empreendimento, e Furnas Centrais Elétricas, com 40%” (Nascimento, 2007). O texto acima refere-se a:

- (A) Usina de Cana Brava.
- (B) Usina Luis Eduardo Magalhães.
- (C) Usina Luis Carlos Barreto de Carvalho.
- (D) Usina Corujão.
- (E) Usina Peixe/Angical.

QUESTÃO 48

No dia 02 de outubro de 2009, durante a 121ª Assembléia do Comitê Olímpico Internacional (COI), realizada em Copenhague, Dinamarca, a cidade do Rio de Janeiro (RJ) foi escolhida para sediar os Jogos Olímpicos e Paraolímpicos de 2016. Sobre os Jogos Olímpicos e Paraolímpicos podemos afirmar que:

- (A) o Rio de Janeiro será a segunda cidade sul-americana a sediar os Jogos Olímpicos e Paraolímpicos pois a primeira cidade-sede da América do Sul foi Buenos Aires, em 1992.
- (B) o Rio de Janeiro será a primeira cidade sul-americana a sediar os Jogos Olímpicos e Paraolímpicos superando cidades-candidatas como Chicago (Estados Unidos), Madri (Espanha) e Tóquio (Japão).
- (C) o Brasil foi o segundo país sul-americano no quadro de medalhas dos Jogos Olímpicos de 2008 realizados em Pequim (China) ficando atrás apenas da Argentina.
- (D) os primeiros Jogos Olímpicos do século XX foram realizados na Cidade do México (México) em 1904. Os Jogos Olímpicos naquele ano duraram cinco meses e foram marcados por problemas de organização do evento.
- (E) Nenhuma das alternativas está correta.

QUESTÃO 49

A Copa de 2014 será realizada no Brasil. Sobre ela podemos afirmar que:

- (A) a Copa de 2014 terá 12 (doze) cidades-sede por todo o território nacional, sendo 04 (quatro) na região Nordeste, 03 (três) na região Sudeste, 02 (duas) na região Centro-Oeste, 02 (duas) na região Sul e 01 (uma) na região Norte do País.
- (B) as cidades-sede que representam a região Nordeste do País na Copa de 2014 são: Salvador (BA), Fortaleza (CE), Natal (RN) e João Pessoa (PB).
- (C) a cidade-sede que representa a região Norte do País na Copa de 2014 é a cidade de Belém (PA).
- (D) a Copa de 2014 terá 12 (doze) cidades-sede por todo o território nacional, sendo 04 (quatro) na região Nordeste, 04 (quatro) na região Sudeste, 02 (duas) na região Sul, 01 (uma) na região Centro-Oeste e 01 (uma) na região Norte do País.
- (E) a Copa de 2014 terá 12 (doze) cidades-sede por todo o território nacional, sendo 04 (quatro) na região Norte, 03 (três) na região Sudeste, 02 (duas) na região Centro-Oeste, 02 (duas) na região Sul e 01 (uma) na região Nordeste do País.

QUESTÃO 50

“No dia 12 de fevereiro de 1809, nascia em Shrewsbury, no Condado de Shropshire (Inglaterra), o homem que iria revolucionar o estudo da ciência. O trabalho dele, com a teoria da evolução das espécies por meio da seleção natural lançou as bases da biologia moderna” (Folha de São Paulo, 12/12/2009). O texto acima refere-se:

- (A) ao nascimento de Charles Robert Darwin, autor do livro “As origens das espécies” que dissociou o pensamento científico do pensamento religioso ao propor que questões naturais precisam ser interpretadas através de processos da natureza e não por respostas sobrenaturais.

- (B) ao nascimento de Albert Einstein, autor de “Fundamento geral da teoria da relatividade” com repercussões em diversas ciências, desde a física até variadas interpretações filosóficas.
- (C) ao nascimento de Auguste Comte, criador do positivismo, que influenciou de maneira substantiva a formação da república no Brasil, a qual está estampada, inclusive, no lema da bandeira brasileira.
- (D) ao nascimento de Theodor Wiesengrund Adorno, grande expoente da chamada Escola de Frankfurt, que contribuiu para o renascimento intelectual da Alemanha e provocou diversas reflexões filosóficas em várias áreas do conhecimento.
- (E) Nenhuma das alternativas está correta.

NOÇÕES DE DIREITO

QUESTÃO 51

Segundo a Constituição Federal, “A casa é asilo inviolável do indivíduo”. Fica caracterizada a violação de domicílio caso o Policial Militar adentre no imóvel residencial:

- (A) em qualquer horário do dia ou da noite, com o consentimento do morador;
- (B) em qualquer horário do dia ou da noite, em caso de flagrante delito;
- (C) em qualquer horário do dia ou da noite, em caso de desastre;
- (D) em qualquer horário do dia ou da noite, para prestar socorro;
- (E) em qualquer horário do dia ou da noite, por determinação de mandado judicial.

QUESTÃO 52

A Constituição Federal dispõe que:

- (A) o militar alistável, com menos de 10 (dez) anos de serviço, é inelegível;
- (B) o militar alistável é elegível e, se contar com menos de 10 (dez) anos de serviço, será agregado pela autoridade superior e, se eleito, passará automaticamente, no ato da diplomação, para a inatividade;
- (C) ao militar é permitida a sindicalização para fins de defesa de seus direitos;
- (D) ao militar é permitido o direito de greve desde que para fins de proteção de seus direitos;
- (E) o militar, estando ou não em serviço ativo, poderá estar filiado a partido político.

QUESTÃO 53

O Código Penal Brasileiro, no capítulo “Dos crimes praticados por funcionário público contra a administração em geral”, tipifica como prevaricação, o ato de:

- (A) Apropriar-se o funcionário público de dinheiro, valor ou qualquer outro bem móvel, público ou particular, de que tem posse em razão do cargo, ou desviá-lo, em proveito próprio ou alheio;
- (B) Exigir, para si ou para outrem, direta ou indiretamente, ainda que fora da função ou antes de assumi-la, mas em razão dela, vantagem indevida;
- (C) Solicitar ou receber, para si ou para outrem, direta ou indiretamente, ainda que fora da função ou antes de assumi-la, mas em razão dela, vantagem indevida, ou aceitar promessa de tal vantagem;

- (D) Retardar ou deixar de praticar, indevidamente, ato de ofício, ou praticá-lo contra disposição expressa de lei, para satisfazer interesse ou sentimento pessoal;
- (E) Deixar o funcionário, por indulgência, de responsabilizar subordinado que cometeu infração no exercício do cargo ou, quando lhe falte competência, não levar o fato ao conhecimento da autoridade competente.

QUESTÃO 54

Constitui abuso de autoridade:

- I. qualquer atentado: à liberdade de locomoção; à inviolabilidade do domicílio; ao sigilo da correspondência; à liberdade de consciência e de crença; ao livre exercício do culto religioso; à liberdade de associação; aos direitos e garantias legais assegurados ao exercício do voto; ao direito de reunião; à incolumidade física do indivíduo; aos direitos e garantias legais assegurados ao exercício profissional.
- II. ordenar ou executar medida privativa da liberdade individual, sem as formalidades legais ou com abuso de poder;
- III. submeter pessoa sob sua guarda ou custódia a vexame ou a constrangimento não autorizado em lei;
- IV. deixar de comunicar, imediatamente, ao juiz competente a prisão ou detenção de qualquer pessoa;

- (A) apenas os itens I, II e III estão corretos;
- (B) apenas os itens II, III e IV estão corretos;
- (C) apenas os itens I, II e IV estão corretos;
- (D) apenas os itens I, III e IV estão corretos;
- (E) todos os itens estão corretos.

QUESTÃO 55

São considerados hediondos os seguintes crimes, todos tipificados no Decreto-Lei nº 2.848, de 7 de dezembro de 1940 - Código Penal, consumados ou tentados:

- I - homicídio (art. 121), quando praticado em atividade típica de grupo de extermínio, ainda que cometido por um só agente, e homicídio qualificado (art. 121, § 2º, I, II, III, IV e V);
- II - latrocínio (art. 157, § 3º, *in fine*);
- III - extorsão qualificada pela morte (art. 158, § 2º);
- IV - abuso de incapazes (art. 173);

- (A) apenas os itens I, II e III estão corretos;
- (B) apenas os itens II, III e IV estão corretos;
- (C) apenas os itens I, II e IV estão corretos;
- (D) apenas os itens I, III e IV estão corretos;
- (E) todos os itens estão corretos.

DAS NORMAS PERTINENTES À PMTO

QUESTÃO 56

A Polícia Militar do Estado do Tocantins – PMTO, força auxiliar e reserva do Exército Brasileiro, organizada com base na hierarquia e na disciplina militar, destina-se à realização da polícia ostensiva e à preservação da ordem pública no território do Estado do Tocantins. Não é competência da Polícia Militar do Estado do Tocantins:

- (A) o policiamento ostensivo de segurança, de prevenção criminal, de trânsito urbano e rodoviário;
- (B) a preservação da ordem pública;

- (C) a orientação e instrução das guardas municipais, onde houver;
- (D) a garantia do exercício do poder de polícia nos Poderes e Órgãos Públicos do Estado, especialmente os das áreas fazendárias, sanitária, de uso e ocupação de solo, do patrimônio cultural e do meio ambiente;
- (E) executar as missões das Forças Armadas e da Polícia Rodoviária Federal, o policiamento ostensivo, fardado, planejado pelas autoridades competentes da corporação, na forma da legislação federal;

QUESTÃO 57

O Sub-Chefe do Estado-Maior é nomeado por ato do:

- (A) Chefe do Executivo do Estado do Tocantins;
- (B) Comandante-Geral da Polícia Militar do Estado do Tocantins;
- (C) Subcomandante-Geral da Polícia Militar do Estado do Tocantins;
- (D) Chefe do Estado Maior da Polícia Militar do Estado do Tocantins;
- (E) Corregedoria Geral da Polícia Militar do Estado do Tocantins;

QUESTÃO 58

Os deveres dos Policiais Militares emanam de vínculos racionais e morais que o ligam à comunidade estadual e à sua segurança. Não compreende dever dos Policiais Militares do Estado do Tocantins:

- (A) a dedicação integral ao serviço policial militar e a fidelidade à corporação, mesmo com o sacrifício da própria vida;
- (B) o culto aos símbolos nacionais e religiosos;
- (C) a probidade e a lealdade em todas as circunstâncias;
- (D) a disciplina e o respeito à hierarquia;
- (E) a obrigação de tratar o subordinado dignamente e com urbanidade.

QUESTÃO 59

São direitos dos policiais militares tocantinenses, com exceção de:

- (A) garantia da graduação, em toda a sua plenitude, com as vantagens, prerrogativas e deveres a ela inerentes, quando praças, com estabilidade assegurada;
- (B) a promoção, de conformidade com o estabelecido em lei;
- (C) o porte de arma para as praças;
- (D) licença-paternidade, de 8 (oito) dias, em virtude de adoção de criança de 0 (zero) a 4 (quatro) meses, ou por filho nascido através do casamento ou de entidade familiar considerada pela legislação civil;
- (E) 13º (décimo terceiro) e 14º (décimo quarto) salários, com base na remuneração integral ou no valor dos proventos.

QUESTÃO 60

Assinale a alternativa incorreta:

- (A) A licença para tratar de interesse particular é a autorização para afastamento total do serviço concedida ao policial militar com mais de 10 (dez) anos de efetivo serviço, que a requerer com aquela finalidade, sendo concedida com prejuízo da

remuneração e da contagem do tempo de serviço efetivo;

- (B) Somente em flagrante delito poderá o policial militar ser preso por autoridade policial, ficando esta obrigada a entregá-lo imediatamente à autoridade policial mais próxima, só podendo retê-lo na delegacia ou posto policial durante o tempo necessário à lavratura do flagrante, informando-o dos seus direitos, entre os quais o de permanecer calado e de contar com a assistência de sua família e de advogados;
- (C) É considerado ausente o policial militar que, por mais de 24 (vinte e quatro) horas consecutivas ausentar-se, sem licença da organização militar onde serve ou do local onde deve permanecer;
- (D) É considerado desaparecido o policial militar da ativa que, no desempenho de qualquer serviço, em viagem, em operações policiais militares ou em caso de calamidade pública, deixar de comparecer à sua organização policial militar, sem comunicar qualquer motivo, ou impedimento, por mais de 24 (vinte e quatro) horas;
- (E) O policial militar que houver perdido o posto e a patente ou a graduação por decisão do Tribunal de Justiça, será demitido "ex officio", sem direito a qualquer remuneração ou indenização e terá sua situação definida pela lei do Serviço Militar.

PROVA DE REDAÇÃO

Instruções:

Redija um texto **EM PROSA**, dissertativo. Observe rigorosamente as orientações e informações a seguir:

- O tema deve ser desenvolvido segundo a proposta de redação.
- O tema vem acompanhado de uma coletânea de quatro textos, que tem o objetivo de orientar sua linha argumentativa.
- Sua redação será ANULADA se você, fugir ao **tema** proposto; desconsiderar a **coletânea**; não atender ao **tipo de texto** exigido.

Tema Desenvolvimento humano

Coletânea

Texto 1

Lições de qualidade de vida

O Índice de Desenvolvimento Humano revela grande diferença socioeconômica entre as nações desenvolvidas e as mais pobres.

Por Mariana Nadai

De todas as populações do mundo, aquela que tem a maior qualidade são os 303 mil habitantes da Islândia, que têm expectativa de vida de 81,6 anos e renda per capita próxima de 36 mil dólares anuais. Desse povo, 99% dos adultos são alfabetizados e 96% de quem tem entre 7 e 24 anos de idade está matriculado na escola. Os 6 milhões de habitantes de Serra Leoa, na África, estão no extremo oposto: eles têm apenas 42,1 anos de expectativa de vida e renda mensal per capita de 630 dólares. Só 37% dos adultos sabem ler e escrever e menos de 45% das crianças e jovens frequentam a escola. Islândia e Serra Leoa registram, respectivamente, o maior e menor Índice de Desenvolvimento Humano (IDH) – 0,968 e 0,329, respectivamente.

(...)

A posição do Brasil

Desde 2007 o país integra o grupo das nações de alto desenvolvimento humano, na setuagésima posição no ranking. A expectativa de vida (que alcançou os 72 anos em 2006), e principalmente, a elevação na taxa de alfabetização dão consistência ao crescimento do IDH nos últimos anos. Em 2008, o país registrou IDH de 0,807. Mas a concentração de renda ainda é grande no país.

(Guia do Estudante. *Atualidades*. Edição 9. 1º semestre de 2009. p. 138 e 139)

Texto 2

IDH

O Índice de Desenvolvimento Humano compara a qualidade de vida da população de várias nações. Criado em 1990, pelo programa das Nações Unidas considera a dimensão econômica (renda) e aspectos sociais, culturais e de saúde. A escala do IDH varia de 0 a 1. Os países com IDH 0,499 são considerados de baixo desenvolvimento humano; os de IDH entre 0,500 e 0,799 de médio desenvolvimento; e os de 0,800 em diante, de elevado desenvolvimento.

(Guia do Estudante. *Atualidades*. Edição 9. 1º semestre de 2009. p. 139)

Texto 3

Comida (Titãs)

Composição: Arnaldo Antunes / Marcelo Fromer / Sérgio Britto

Bebida é água!
Comida é pasto!
Você tem sede de que?
Você tem fome de que?
A gente não quer só comida
A gente quer comida
Diversão e arte
A gente não quer só comida
A gente quer saída
Para qualquer parte...
A gente não quer só comida
A gente quer bebida
Diversão, balé
A gente não quer só comida
A gente quer a vida
Como a vida quer...

(Música na íntegra disponível no sítio <http://letras.terra.com.br/titãs/91453/>)

Texto 4



(Disponível no sítio www.panoramablogmario.blogspot.com.br/2007)

Proposta de redação

Observa-se hoje que o homem está cada vez mais se afastando de sua própria essência: a humanidade; ao mesmo tempo, sente-se que há necessidade de se pensar o próprio desenvolvimento humano. Com base na temática e auxiliado pela leitura da coletânea, redija um texto dissertativo argumentando sobre o **desenvolvimento humano no Brasil**.

RASCUNHO FOLHA DE REDAÇÃO

--

1	
2	
3	
4	
5	
6	
7	
8	
9	
10	
11	
12	
13	
14	
15	
16	
17	
18	
19	
20	
21	
22	
23	
24	
25	
26	
27	
27	
29	
30	