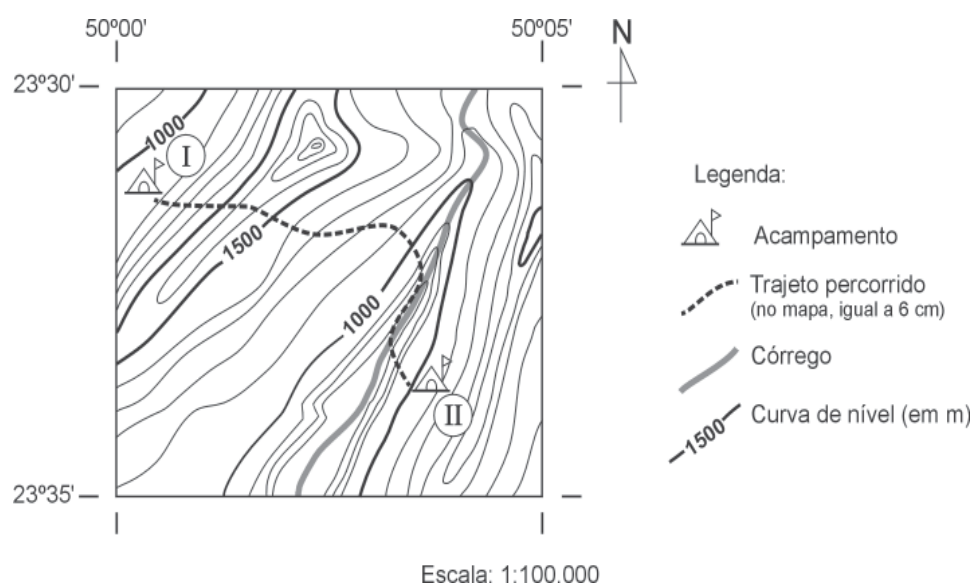


PROVA DE GEOGRAFIA

QUESTÃO 07

Um grupo de escoteiros realizou uma caminhada entre dois acampamentos – **I** e **II**.

Analise este mapa, em que está indicada a localização desses acampamentos, bem como outros elementos que compõem a paisagem da região percorrida pelos escoteiros:







A partir dessa análise, é **CORRETO** afirmar que os escoteiros

- A) alcançaram maior altitude – entre 1 600 m e 1 700 m – ao transporem elevação localizada a leste do Acampamento **I**.
- B) percorreram um trajeto de 3 km entre os acampamentos **I** e **II**, uma vez que, no mapa, essa distância é de 6 cm.
- C) ocuparam, no Acampamento **II**, uma área de risco de inundações, em razão de sua localização em uma planície.
- D) percorreram uma trajetória ao longo de divisores de água, com o objetivo de evitar subidas e descidas por encostas de morros e serras.

QUESTÃO 08

Analise esta figura:

NÃO VAI DAR PARA TODOS

TIPO DE CONSUMO	Consumo de água 	Consumo de petróleo 	Consumo de carne 	Uso de Automóveis 	Emissão de gás carbônico 
MUNDO	150 litros por dia	2 litros	40 quilos por ano	1 para cada 10 pessoas	4 toneladas por ano
CALIFÓRNIA	700 litros por dia	8 litros	125 quilos por ano	7 para cada 10 pessoas	12 toneladas por ano
QUANDO A CHINA E A ÍNDIA TIVEREM O PADRÃO DE VIDA DA CALIFÓRNIA, O MUNDO...	...terá um gasto três vezes maior de água	...vai utilizar o dobro de petróleo	...vai consumir duas vezes mais carne	...terá o triplo de veículos	...emitirá o dobro de gás carbônico

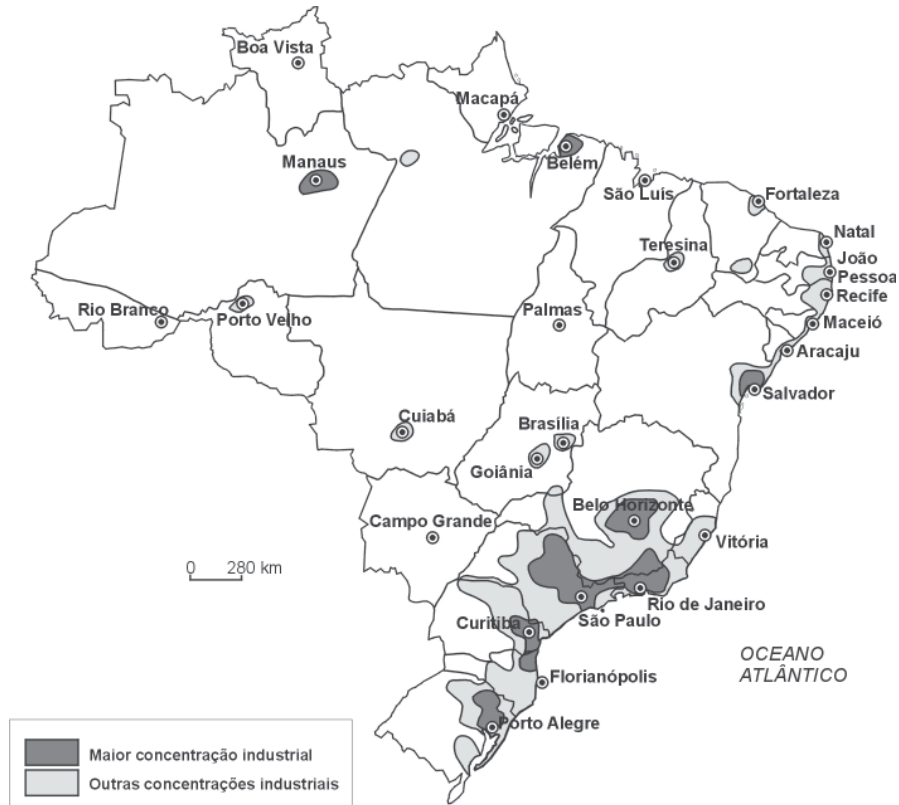
FONTE: SCHELP, Diogo. A cegueira das civilizações. *Veja*, 7 set. 2005, p.106. (Adaptado)

A partir dessa análise e considerando-se outros conhecimentos sobre o assunto, é **INCORRETO** afirmar que os dados contidos nessa figura

- A) confirmam a necessidade do emprego de procedimentos racionais e sustentáveis na apropriação dos recursos naturais renováveis e não-renováveis.
- B) incentivam a adoção, pelos países periféricos e semiperiféricos, de padrões de consumo atualmente vigentes nas economias mais desenvolvidas.
- C) propõem que, com a difusão espacial e o crescimento numérico da frota de veículos em escala planetária, o aquecimento global pode ser intensificado.
- D) sugerem a existência de grande contraste na acessibilidade e no consumo de bens e produtos entre países do Norte e do Sul.

QUESTÃO 09

Analise este mapa, em que estão indicados os principais espaços industriais do Brasil:



FONTE: IBGE. Atlas Nacional do Brasil, Rio de Janeiro, 2000. p.XVIII-7.

A partir dessa análise e considerando-se outros conhecimentos sobre o assunto, é **INCORRETO** afirmar que esse mapa

- A) comprova que a distribuição espacial das áreas de concentração industrial coincide, espacialmente, com a atual localização da fronteira agrícola do País.
- B) mostra o espaço brasileiro onde se concentram atividades secundárias modernas e tradicionais, voltadas para a produção de bens de consumo e de produção.
- C) revela a concentração espacial da indústria brasileira no Sudeste, bem como a ocorrência de concentrações menos importantes no Sul, Nordeste e Norte.
- D) sugere que o grande pólo industrial do País ocupa áreas polarizadas pelas cidades de São Paulo, Rio de Janeiro e Belo Horizonte.

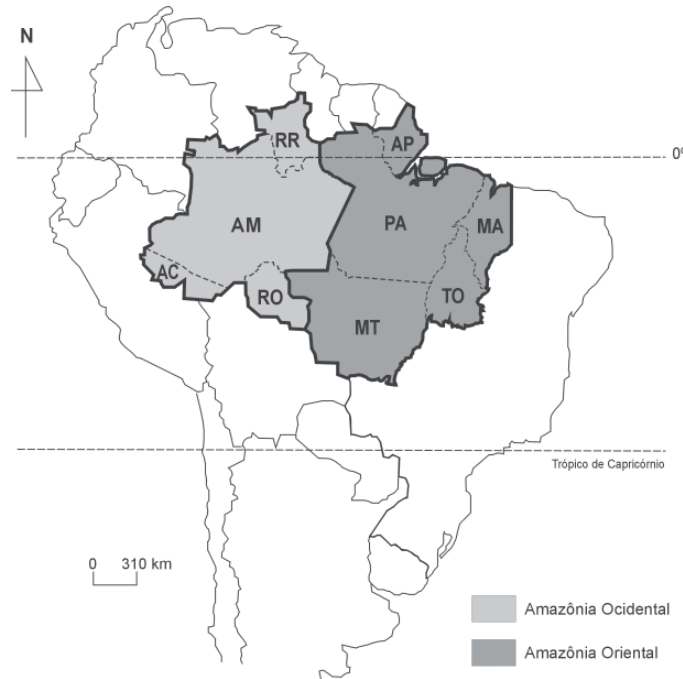
QUESTÃO 10

É **INCORRETO** afirmar que a agricultura brasileira praticada na atualidade

- A) incorpora, em sua cadeia produtiva, indústrias químicas e de máquinas e equipamentos agrícolas que estruturam os complexos agroindustriais.
- B) mantém sua função histórica de produtora de bens de exportação, essencial para a inserção do País na economia globalizada.
- C) resulta do desaparecimento dos pequenos e médios produtores rurais, que, tradicionalmente, se organizavam em núcleos familiares.
- D) é fornecedora de matéria-prima para o setor industrial e para o abastecimento dos mercados urbanos nacionais.

QUESTÃO 11

Analise este mapa, em que está destacada a localização, na América do Sul, da Amazônia Ocidental e da Amazônia Oriental:



A partir dessa análise e considerando-se outros conhecimentos sobre o assunto, é **INCORRETO** afirmar que

- A) a Amazônia **Ocidental** apresenta clima condicionado à atividade permanente da massa Equatorial continental, responsável pelo volume elevado de chuvas e pela amplitude térmica reduzida da região.
- B) a Amazônia **Ocidental** abriga a Zona Franca de Manaus, sua região de economia mais dinâmica, que desempenha importantes funções industriais e comerciais comandadas, principalmente, por empresas eletroeletrônicas.
- C) a Amazônia **Ocidental** abrange as mais extensas áreas de modificação antrópica da Amazônia, concentradas, principalmente, no Mato Grosso e ao longo da Belém–Brasília e da Estrada de Ferro Carajás.
- D) a Amazônia **Ocidental** corresponde ao espaço brasileiro que mais se projeta para o interior do Subcontinente Sul-americano, estabelecendo fronteira, inclusive, com países andinos, a exemplo do Peru e da Colômbia.

QUESTÃO 12

É **INCORRETO** afirmar que a globalização da economia mundial se caracteriza, na atualidade,

- A) pela atuação de corporações transnacionais, que estendem suas redes produtivas, comerciais e administrativas por diversos países.
- B) pelo acirramento da concorrência em escala planetária, em razão da crescente liberalização dos mercados nacionais.
- C) pelo crescimento dos fluxos globais de mercadoria, em decorrência, sobretudo, do crescimento dos investimentos diretos no estrangeiro.
- D) pela perda de importância da divisão internacional do trabalho, acompanhada, de perto, pela extinção das especializações produtivas das economias nacionais.